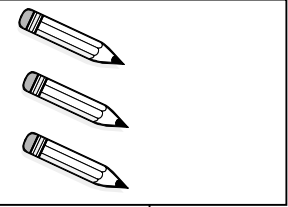

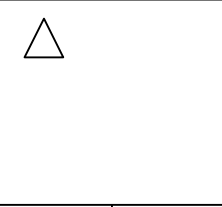


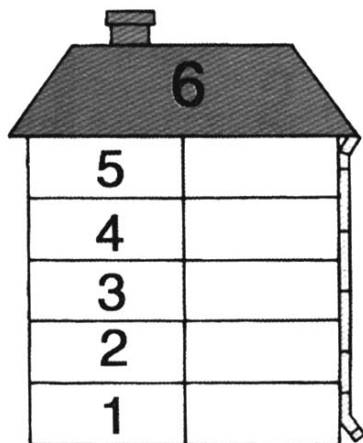
БРОЈ ШЕСТ

1. Доцртај одговарајући број елемената у сваком скупу.

		
6	6	6

6										
---	--	--	--	--	--	--	--	--	--	--

6										
---	--	--	--	--	--	--	--	--	--	--



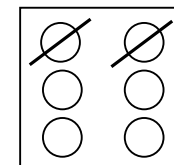
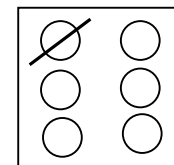
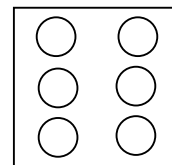
Упиши знак > или < .

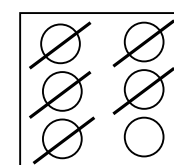
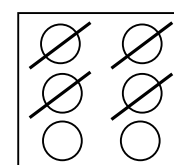
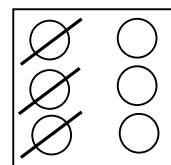
$2 + 3 \square 6$

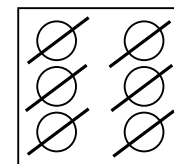
$6 \square 2 + 2$

$6 - 0 \square 5$

$4 \square 5 + 1$







Мама је купила 6 лизалица. Марко је појео 2 лизалице. Колико је лизалица остало?

Рачунам: _____

Одговор: _____