

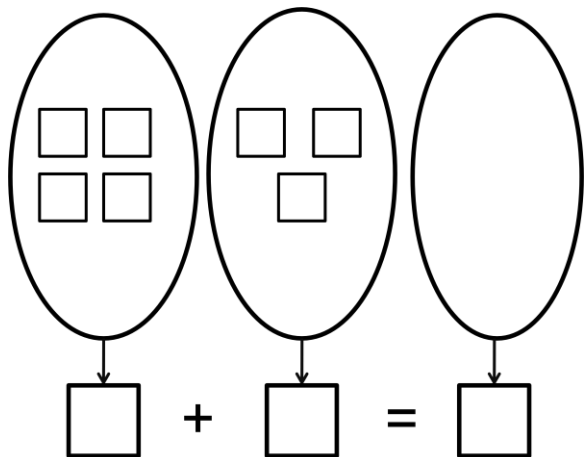
Сабрање и одузимање до 10

ОСНОВНИ НИВО

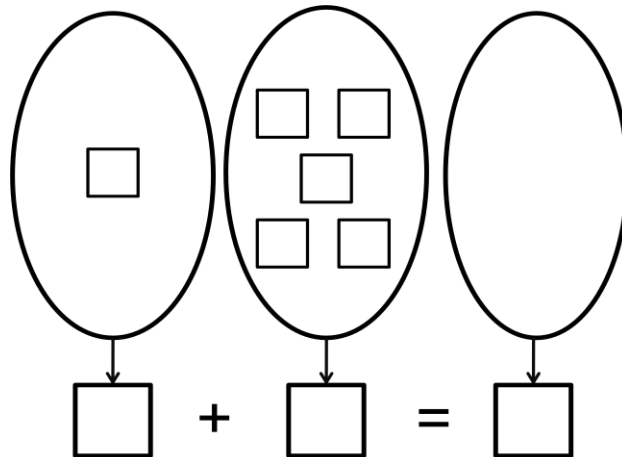
(учитељица Алекић Зорица)

1. Доцртај елементе трећег скупа и на основу скупова попуни квадратиће тако да добијеш тачне једнакости:

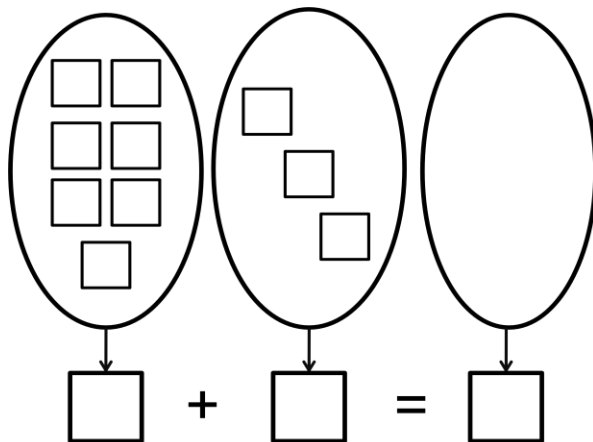
а)



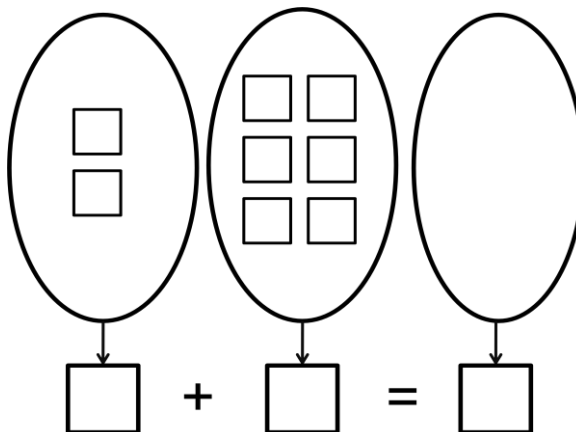
б)



в)



г)



2. Споји тако да добијеш тачне једнакости:

$2 + 3 =$
$3 + 7 =$
$1 + 6 =$
$5 + 4 =$
$2 + 1 =$

7
5
10
9
3

3. Споји тако да добијеш тачне једнакости :

$2 + 3 =$
$3 + 7 =$
$1 + 6 =$
$5 + 4 =$
$2 + 1 =$

7
5
10
9
3

4. Упореди:

$2 \square 8 \quad 5 \square 3 \quad 6 \square 6$

$1 \square 7 \quad 4 \square 4 \quad 9 \square 8$

5. Распореди следеће бројеве:

а) од најмањег до највећег

• 4, 3, 5, 2, 6 _____

б) од највећег до најмањег

• 8, 5, 7, 4, 6 _____

СРЕДЊИ НИВО

(учитељица Алекић Зорица)

1. Сабери:

$4 + 5 = \underline{\quad}$

$6 + 4 = \underline{\quad}$

$2 + 2 = \underline{\quad}$

$7 + 1 = \underline{\quad}$

$5 + 4 = \underline{\quad}$

$2 + 5 = \underline{\quad}$

2. Одузми:

$9 - 4 = \underline{\quad}$

$4 - 1 = \underline{\quad}$

$6 - 3 = \underline{\quad}$

$7 - 5 = \underline{\quad}$

$8 - 6 = \underline{\quad}$

$5 - 2 = \underline{\quad}$

3. Упореди :

$7 \square 4 + 1$

$8 \square 5 + 3$

$4 + 3 \square 9$

$2 \square 1 + 1$

$6 \square 4 + 5$

$2 + 8 \square 5$

4. Распореди следеће бројеве:

а) од најмањег до највећег

• 2, 10, 6, 8, 4 _____

б) од највећег до најмањег

• 7, 1, 3, 5, 9 _____

5. Дејан је имао 5 трешања па је набрао још 5 . Колико трешања Дејан сада има ?

6. Иван је имао 6 банана . Сестри је дао 2 .Колико је Ивану остало банана ?

НАПРЕДНИ НИВО

(учитељица Алекић Зорица)

1. Израчунај:

$$3 + 2 + 1 = \underline{\hspace{2cm}} \quad 4 + 2 + 1 = \underline{\hspace{2cm}}$$

$$8 - 3 - 1 = \underline{\hspace{2cm}} \quad 9 - 3 - 2 = \underline{\hspace{2cm}}$$

2. Упореди :

$$5 + 1 \quad \square \quad 4 + 3 \quad 10 - 3 \quad \square \quad 9 - 4 \quad 3 + 7 \quad \square \quad 3 + 3$$

$$8 - 4 \quad \square \quad 10 - 2 \quad 6 + 2 \quad \square \quad 4 + 4 \quad 10 - 5 \quad \square \quad 9 - 4$$

3. Распореди следеће бројеве:

а) од најмањег до највећег

- 7, 5, 8, 3, 1, 10 _____

б) од највећег до најмањег

- 3, 1, 9, 7, 4, 10 _____

4. Марко је у руци држао 9 балона . Тог дана су најпре пукла 2 балона , а затим још 4 .
Колико је балона остало Марку .

5. На ливади је 4 пчела . Долетеле су 2 пчеле , а затим још једна . Колико пчела је
било на ливади?