


## ОДУЗИМАЊЕ ДО 5 – илустровани текстуални задаци

1. Сашка је имала две бомбоне. Једну је појела. Колико јој је бомбона остало?



Рачунам: \_\_\_\_\_ - \_\_\_\_\_ = \_\_\_\_\_

Одговор: Сашки је остала \_\_\_\_\_ бомбона.


2. Жељко је купио 3 чоколадице. Једну је појео. Колико му је остало чоколадица?



Рачунам: \_\_\_\_\_ - \_\_\_\_\_ = \_\_\_\_\_

Одговор: Жељку су остале \_\_\_\_\_ чоколадице.


3. Мама је направила 5 сендвича.Тата је појео 2 сендвича.Колико је сендвича остало?



Рачунам: \_\_\_\_\_ - \_\_\_\_\_ = \_\_\_\_\_

Одговор: Остало је \_\_\_\_\_ сендвича.


4. Анђела је сипала 4 чаше сока. Невена је попила 2 чаше.Колико је чаша сока остало пуно?



Рачунам: \_\_\_\_\_ - \_\_\_\_\_ = \_\_\_\_\_

Одговор: Остало је \_\_\_\_\_ чаше сока.


5. У парку је било 5 куца. Једна је отишла. Колико их је остало?



Рачунам. \_\_\_\_\_ - \_\_\_\_\_ = \_\_\_\_\_

Одговор: У парку су остале \_\_\_\_\_ куце.

6. На столу су биле 4 јабуке. Дејан је појео 2. Колико је јабука остало?



Рачунам: \_\_\_\_\_ - \_\_\_\_\_ = \_\_\_\_\_

Одговор: Остале су \_\_\_\_\_ јабуке.

7. Петар је понео у продавницу 5 динара и купио жваку за 4 динара. Колико му је динара остало?



Рачунам: \_\_\_\_ - \_\_\_\_ = \_\_\_\_

Одговор: Петру је остао \_\_\_\_ динар.


8. Нађа је добила 4 нове књиге. Три је дала другарицама да читају. Колико је Нађи остало књига?



Рачунам: \_\_\_\_ - \_\_\_\_ = \_\_\_\_

Одговор: Нађи је остала \_\_\_\_ књига.

9. Никола има 5 лопти. Три су фудбалске, а остале су за одбојку. Колико Никола има одбојкашких лопти?



Рачунам:  $\underline{\quad} - \underline{\quad} = \underline{\quad}$

Одговор: Никола има  $\underline{\quad}$  одбојкашке лопте.


10. У гнезду су 4 птића. Сва четири ће одлетети кад порасту. Колико ће птића тада остати у гнезду?



Рачунам:  $\underline{\quad} - \underline{\quad} = \underline{\quad}$

Одговор: У гнезду ће остати  $\underline{\quad}$  птића.


11. На полици је 5 медведића. Два имају капице а остали немају. Колико медведића нема капице?



Рачунам : \_\_\_\_\_ - \_\_\_\_\_ = \_\_\_\_\_

Одговор: \_\_\_\_\_ медведића немају капице.

12. На небу су 4 облака. Дошло је сунце и отерало 3. Колико је остало облака на небу?



Рачунам: \_\_\_\_\_ - \_\_\_\_\_ = \_\_\_\_\_

Одговор: На небу је остао \_\_\_\_\_ облак.