

# САБИРАЊЕ ДО 5 - сликовити текстуални задаци

1. Сара има 1 сличицу. Брат јој је дао још 1. Колико сада сличица има Сара?



Рачунам:  $\underline{\quad} + \underline{\quad} = \underline{\quad}$

Одговор: Сара сада има  $\underline{\quad}$  сличице.


2. Ана има 2 оловке. Мама јој је купила још 1. Колико сада Ана има оловака?



Рачунам:  $\underline{\quad} + \underline{\quad} = \underline{\quad}$

Одговор: Ана сада има  $\underline{\quad}$  оловке.

3. Павле је за рођендан добио 3 аутића, а бака му је поклонила још један. Колико сада аутића има Павле?



Рачунам: \_\_\_\_\_ + \_\_\_\_\_ = \_\_\_\_\_

Одговор: Павле сада има \_\_\_\_\_ аутића.

4. Ива има 2 јагоде. Убрала је још 2. Колико Ива сада има јагода?



Рачунам : \_\_\_\_\_ + \_\_\_\_\_ = \_\_\_\_\_

Одговор: Ива сада има \_\_\_\_\_ јагода.

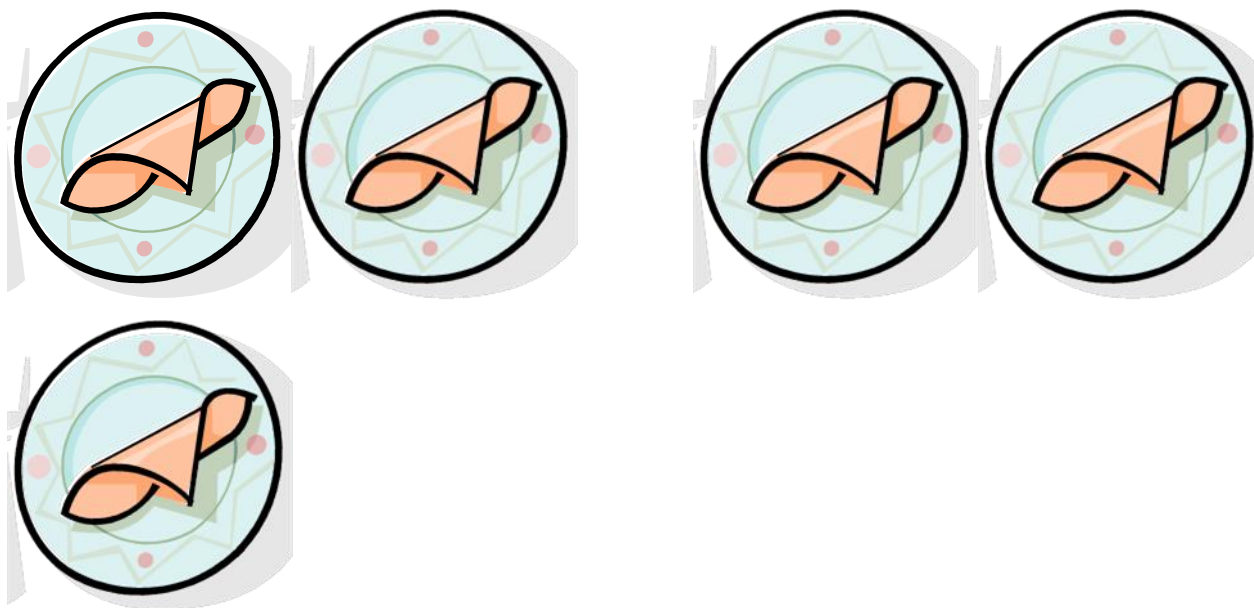
5. У корпи су 4 јабуке. Стево је додао још 1. Колико сада има јабука у корпи?



Рачунам:  $\underline{\quad} + \underline{\quad} = \underline{\quad}$

Одговор: У корпи сада има  $\underline{\quad}$  јабука.

6. Мама је ставила 3 тањира на сто. Ема је додала још 2. Колико сада има тањира на столу?



Рачунам:  $\underline{\quad} + \underline{\quad} = \underline{\quad}$

Одговор: На столу сада има  $\underline{\quad}$  тањира.


7. На игралишту је било 2 дечака. Дошле су још две девојчице. Колико је укупно деце на игралишту?



Рачунам:  $\underline{\quad} + \underline{\quad} = \underline{\quad}$

Одговор: На игралишту је сада  $\underline{\quad}$  деце.


8. На небу је засјала 1 звезда, а затим још 4. Колико звезда сија уз месец?



Рачунам:  $\underline{\quad} + \underline{\quad} = \underline{\quad}$

Одговор: На небу сија  $\underline{\quad}$  звезда.


9. Аца у акваријуму има 4 рибице. Друг му је поклонио још 1. Колико сада рибица има Аца?



Рачунам:  $\underline{\quad} + \underline{\quad} = \underline{\quad}$

Одговор: Аца сада има  $\underline{\quad}$  рибица.



10. На једној грани су 2 птице, затим је долетело још 3. Колико је птица укупно на грани?



Рачунам:  $\underline{\quad} + \underline{\quad} = \underline{\quad}$

Одговор: На грани је укупно  $\underline{\quad}$  птица.

11. Лука је посматрао бродове на мору. Најпре је видео 2 бродића , а затим у даљини још један велики. Колико бродова види Лука?



Рачунам:  $\underline{\quad} + \underline{\quad} = \underline{\quad}$

Одговор: Лука види  $\underline{\quad}$  брода.

12. Маја је надувала 3 балона, а њен братић 1. Колико су балона укупно надували?



Рачунам:  $\underline{\quad} + \underline{\quad} = \underline{\quad}$

Одговор: Укупно су надували  $\underline{\quad}$  балона.