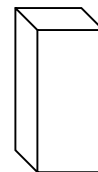
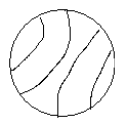
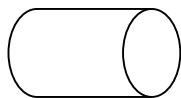
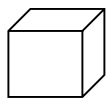


Прва провера знања – група Б

Датум: _____ Име и презиме: _____

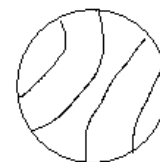
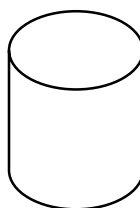

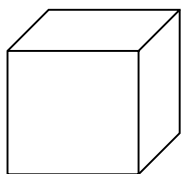
Бодови

1. Напиши шта је приказано на слици.



/4

2. Обој на следећи начин: коцку зеленом, лопту љубичастом, квадар жутом, а ваљак црвеном бојом.



/4

3. Нацртај једну:

а) изломљену затворену линију

б) криву отворену линију

/2

4. Нацртај две криве линије које се секу у три тачке. Обележи тачке пресека линија:

/3

5. Повежи тврдњу за тачним називом.

Права линија која има почетак и крај.

Неограничена крива линија.

Неограничена права линија.

Права линија која има почетак, а нема крај.

права

полуправа

дуж

/3

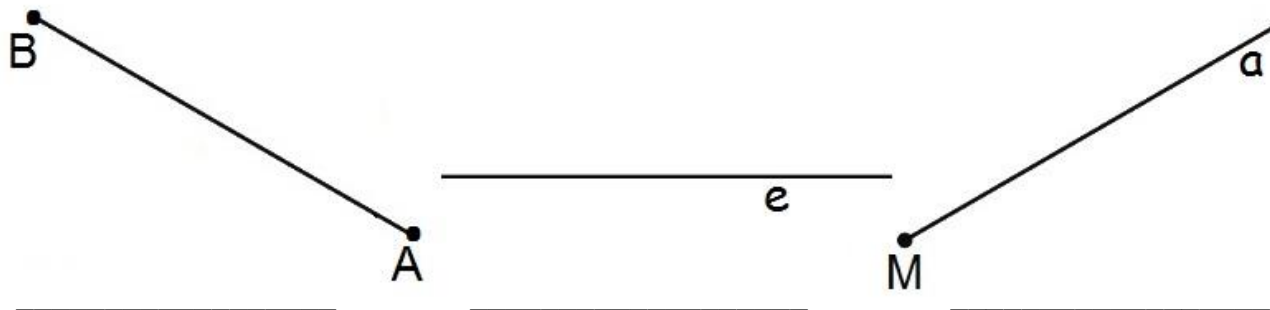
6. Нацртај праву која пролази кроз тачке МЕ:

М

Е

/1

5. Напиши називе линија:



/3


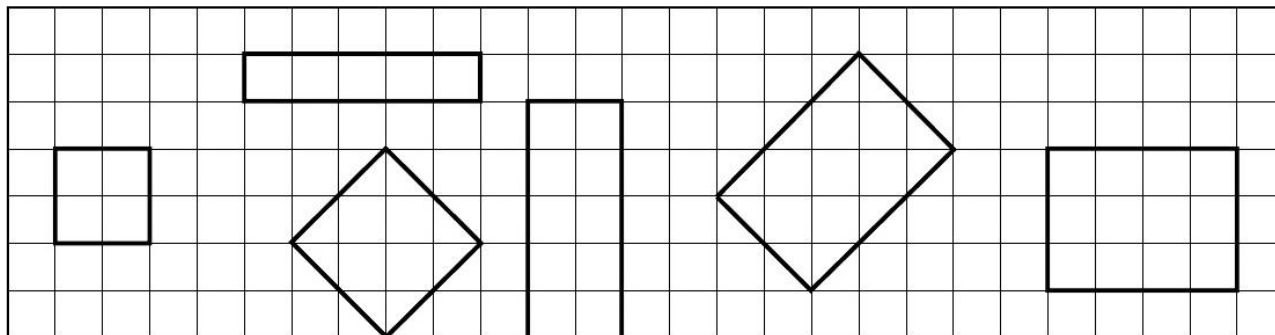
7. Задате су тачке А, М, О и Т. Нацртај дужи АТ и МО.



Упореди нацртане дужи. Дуж МО је _____ од дужи АТ.
Дуж АТ је _____ од дужи МО.

/4

8. Помоћу квадратне мреже нацртај исте фигуре.



/6

Коментар:

- 0 – 7 = 1
- 8 – 13 = 2
- 14 – 20 = 3
- 21 – 25 = 4
- 26 – 30 = 5

Оцена:



/30