



Република Србија

Министарство просвете

Завод за вредновање квалитета
образовања и васпитања

Име и презиме

Одељење IV

Тест за ученике 4. разреда основне школе

ПРИРОДА и ДРУШТВО



свеска

1

Упутство

Пред тобом је свеска са задацима из природе и друштва. Није за оцену, али јесте провера знања. Зато је важно да задатке урадиш што боље. Ради озбиљно и покажи шта знаш!

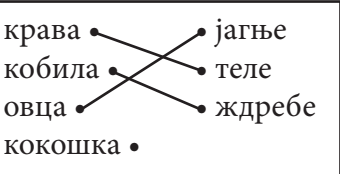
Неке од ових задатака решаваћеш тако што ћеш уписивати одговоре на линију. У већини задатака треба да заокружиш слово испред тачног одговора, а у неким ДА или НЕ. Неки од вас попуњаваће табелу.

У неким задацима треба да повежеш линијама одговарајуће појмове, као у следећем примеру:

Пример 1

Повежи линијом називе животиња и њихове младунце, као што је започето:

крава •	• јагње
кобила •	• теле
овца •	• ждребе
кокошка •	

Решење	
--------	---

Обрати пажњу на то да један појам остаје неповезан.

Пример 2

Које од наведених животиња су домаће животиње?
Упиши ✓ у квадратиће испред свих тачних одговора.

<input type="checkbox"/>	свиња
<input type="checkbox"/>	вук
<input type="checkbox"/>	коза
<input type="checkbox"/>	овца
<input type="checkbox"/>	јелен

Решење	<input checked="" type="checkbox"/> свиња <input type="checkbox"/> вук <input checked="" type="checkbox"/> коза <input checked="" type="checkbox"/> овца <input type="checkbox"/> јелен
--------	---

Обрати пажњу на то да у овом задатку има више тачних одговора.

Пример 3

На линији испред назива животиње упиши број који означава да ли је то дивља или домаћа животиња.

1 – дивља	_____ свиња
2 – домаћа	_____ вук
	_____ коза
	_____ овца
	_____ јелен

Решење	<u> 2 </u> свиња <u> 1 </u> вук <u> 2 </u> коза <u> 2 </u> овца <u> 1 </u> јелен
--------	--

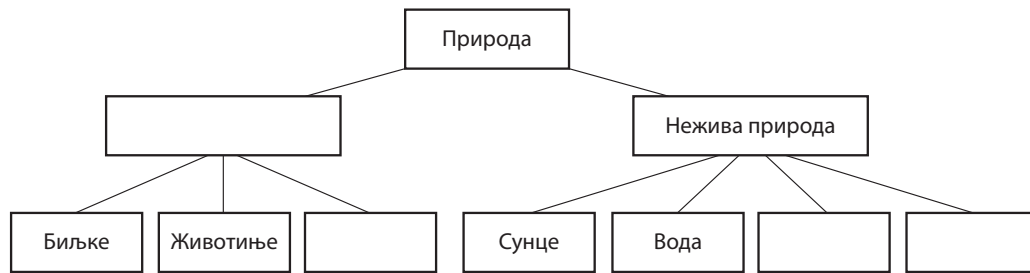
У сваком задатку треба пажљиво да прочиташ шта се од тебе тражи и како треба да одговориш на питање.

Припреми оловку и гумицу.

СРЕЂАН РАД!!!

1

Попуни празна поља:



PPO11001

2Које су од наведених карактеристика **заједничке за сва жива бића**?

Упиши ✓ у квадратиће испред свих тачних одговора.

- лете
- хране се
- рађају се
- говоре
- умиру
- дишу

PPO21013

3На линији испред назива животиње упиши број који **одговара начину** доласка потомства на свет:

- | | |
|---------------------------------|--------------|
| 1 – легу се из јаја | _____ пас |
| 2 – рађају живе младунце | _____ жаба |
| | _____ медвед |
| | _____ мува |
| | _____ срна |

PPO23021

4Заокружи слово испред назива **станишта** у коме живе детлић, лисица и веверица.

- а) шума
- б) бара
- в) њива
- г) ливада

PPO31033

5

Који се услови за живот у стаништима **највише мењају** током године?

Заокружи слово испред тачног одговора.

- а) светлост и топлота
- б) количина воде
- в) количина ваздуха
- г) број живих бића

PP033036

6

На трави је стајала канта са ђубретом. После неколико дана трава испод канте је **пожутела**. Због чега?

Заокружи слово испред тачног одговора.

- а) Није имала довољно воде.
- б) Није имала довољно ваздуха.
- в) Није имала довољно сунчеве светлости.
- г) Није имала довољно топлоте.

PP013010

7

Заокружи слово испред тачног одговора.

За **очување** биљног и животињског света на Земљи при преради неког природног материјала треба користити:

- а) поступак којим се троши најмања количина енергије
- б) поступак којим се најмање загађује околина
- в) поступак којим се производи најјефтинији производ
- г) поступак којим се производи најквалитетнији производ

PP041053

8

PP043051

Које природно богатство људи користе **и као извор енергије и као сировину**?

Заокружи слово испред тачног одговора.

- а) гас
- б) дрво
- в) камен
- г) земљиште

9

PP061071

Допуни реченице:

Вода у чврстом стању назива се _____.

Вода у _____ стању назива се водена пара.

10

PP063072

Једног летњег јутра Марко је приметио да су сви плочници суви, а да на трави у баштама има капљица воде. Чиме се то може објаснити?

Заокружи слово испред тачног одговора.

- а) Падала је киша.
- б) Падао је град.
- в) Трава је пустила сокове.
- г) На трави се згуснула водена пара.

11

PP071077

Попуни табелу као што је започето. Ако наведени материјал **има** дату особину упиши **знак +**, а ако је **нема** упиши **знак -**.

	тврд	еластичан
дрво	+	-
гума		
стакло		

12

Зашто се посуде за **кување** хране праве од метала?

Заокружи слово испред тачног одговора.

- а) зато што метал добро проводи топлоту
- б) зато што метал проводи електричну струју
- в) зато што се метал не ломи
- г) зато што метал није провидан

PP073062

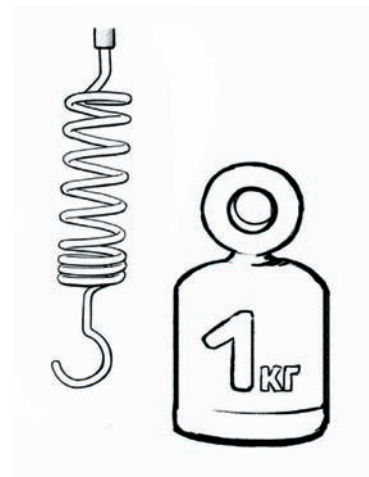
13

На слици су приказани опруга и тег.

Шта се дешава са опругом када на њу **окачимо тег**?

Заокружи слово испред тачног одговора.

- а) наелектрисаће се
- б) истегнуће се
- в) сабиће се
- г) намагнетисаће се



PP081091

14

На линијама упиши број који означава да ли су наведене промене повратне или неповратне:

1 — повратне

2 — неповратне

___ сагоревање

___ рђање

___ испаравање

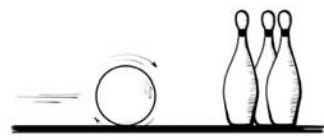

___ сечење

PP083093

15

У квадратић испод сваке слике упиши број који означава кретање приказано на тој слици.

- 1 – клизање
- 2 – падање
- 3 – котрљање



PK091100

16

Коју од наведених појава узрокује **сила Земљине теже**?

Заокружи слово испред тачног одговора:

- а) блесак муње
- б) стварање магле
- в) удар грома
- г) падање кише

PK093109

РЕПУБЛИКА СРБИЈА

-  главни град
-  град од 100 000 до 300 000 становника
-  град од 50 000 до 100 000 становника
-  државна граница
-  аутопут
-  железничка пруга
-  манастир
-  црква
-  џамија
-  бања
-  археолошко налазиште



17

Испод датих слика упиши помоћу чега се људи **оријентишу** у простору.



а) _____



б) _____

PK101120

18

Повежи линијама **облике рељефа** и њихове описе, као што је започето.

- равница •
 - котлина •
 - планина •
 - клисуре •
 - брдо •
- узана, дубока речна долина
 - равница између планина
 - равно земљиште без узвишења
 - највише узвишење

PP051056

19

Пронађи Копаоник на географској карти Србије и допуни следеће реченице:

Најближа река која протиче западно од Копаоника је _____.

Највећи град у Србији источно од Копаоника је _____.

PK103121

20

Заокружи слово испред тачног одговора.

Облици рељефа поређани од **најнижег** до **највишег** су:

- а) равница, планина, брдо
- б) брдо, равница, планина
- в) равница, брдо, планина

PP053059

21

Косовска битка се одиграла 1389. године. Који је то **век**?

Заокружи слово испред тачног одговора.

- а) једанаести век
- б) дванаести век
- в) тринаести век
- г) четрнаести век

PK11131

22

Ко је био **вођа** Првог српског устанка?

Заокружи слово испред тачног одговора.

- а) Милош Обреновић
- б) Карађорђе
- в) цар Душан
- г) Петар Први Карађорђевић

PK12136

23

Упиши ✓ у квадратиће испред свих тачних тврдњи о животу у време Немањића.

- Највећи број становника чинили су сељаци.
- Куће су обично биле грађене од цигли.
- Сва деца су ишла у школу.
- Највећи број људи бавио се трговином.
- Посуђе се правило од дрвета и печене глине.

PK123144

24

Како су распоређене боје на застави Републике Србије, гледајући **одозго** **надоле**?

Заокружи слово испред тачног одговора.

- а) црвена, бела и плава
- б) плава, бела и црвена
- в) бела, црвена и плава
- г) црвена, плава и бела

PD141162

25

Ком делу Европе припада Србија?

Заокружи слово испред тачног одговора.

- а) западној Европи
- б) северозападној Европи
- в) јужној Европи
- г) југоисточној Европи

PD143164

26

Која су два основна типа насеља?

1) _____

2) _____

PD151171

27

Зашто се хидроелектране обично праве на **планинским рекама**?

Заокружи слово испред тачног одговора.

- а) Зато што планинске реке кривудају.
- б) Зато што су планинске реке хладне и бистре.
- в) Зато што су планинске реке брзе и снажне.
- г) Зато што планинске реке нису пловне.

PD153180

28

Бројевима означи да ли су наведене делатности производне или непроизводне.

На линијама поред сваке делатности упиши одговарајући број.

- | | |
|-------------------------|--------------------|
| 1 – производна | _____ пољопривреда |
| 2 – непроизводна | _____ туризам |
| | _____ саобраћај |
| | _____ индустрија |
| | _____ трговина |

PD161182

29

Којом **делатношћу** се баве људи који обезбеђују сировину за производњу јестивог уља?

Заокружи слово испред тачног одговора.

- а) пољопривреда
- б) индустрија
- в) саобраћај
- г) трговина

PD163190

30

PD133157

Пажљиво прочитај текст и заокружи слово испред тачног одговора.

Људи се удружују у ову групу због поделе послова, јер ниједан човек не уме све да ради. Различите службе омогућавају свим члановима ове групе да набаве храну, да се лече, школују и да се осећају сигурно и безбедно.

Ова група је:

- а) породица
- б) школа
- в) болница
- г) насеље

31

PD131150

У свим групама којима припадаш, имаш одређене **обавезе**.

Повежи линијама називе група са обавезама које имаш у тим групама, као што је започето.

- | | |
|---------------------|---|
| у породици • | • да подигнем два прста када желим нешто да кажем или питам |
| у школи • | • да помогнем у куповини потребних намирница |
| у насељу • | • да редовно долазим на тренинг |
| у спортском клубу • | |

32

PD171196

Шта је од наведеног **опасно по живот**?

Заокружи слово испред тачног одговора.

- а) јести неопрано воће
- б) додиривати утикач мокрым рукама
- в) слушати прегласну музику
- г) проводити много времена пред компјутером

Свеска

1