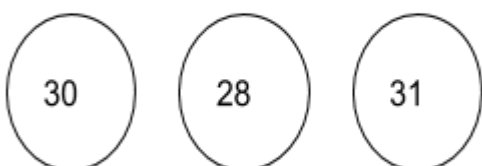


Име и презиме: _____

ДАН, СЕДМИЦА, МЕСЕЦ, ГОДИНА. ГОДИШЊА ДОБА

1. Повежи стрелицом месеце са њиховим трајањем: **66**

јануар септембар јул



октобар фебруар јун

2. Бројевима од 1 до 7 означи редослед дана у седмици: **76**

- уторак
- недеља
- четвртак
- понедељак
- субота
- петак
- среда

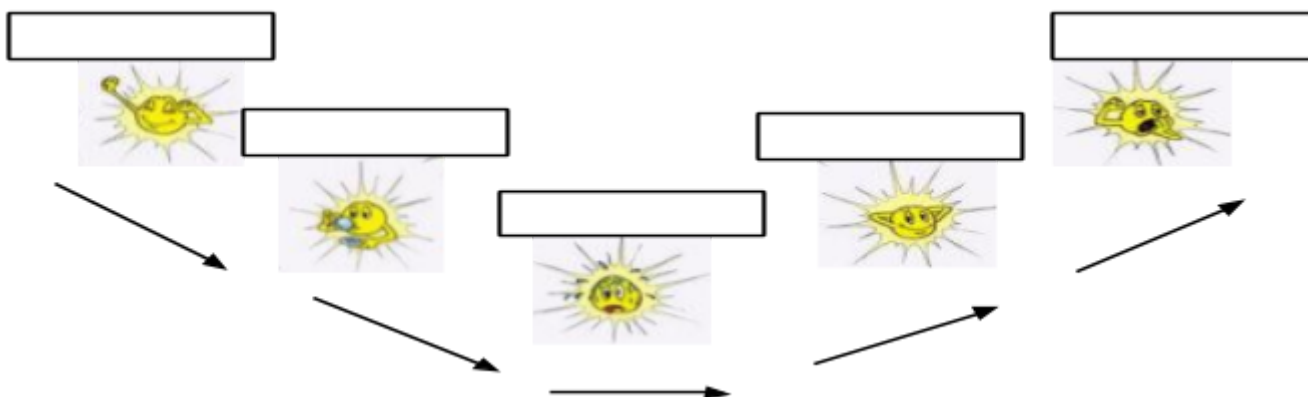
3. а) Поред редног броја напиши назив месеца у календару: **36**

12. _____ 8. _____ 7. _____

б) Поред назива месеца напиши који је по реду у календару: **36**

март ____ септембар ____ јун ____

4. Посматрај слику, па упиши делове дана који недостају. **56**



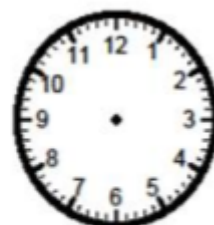
5. Колико сати показује часовник? **26**

6. Нацртај казаљке на часовнику тако да показује тражено време. **46**

преподне

послеподне





9:30

20 :15

7. У правоугаоник упиши назив годишњег доба. **46**



од 30 до 34 бодова	од 25 до 29 бодова	од 17 до 26 бодова	од 10 до 16 бодова	од 0 до 15 бодова
одличан (5)	врлодобар (4)	добар (3)	довољан (2)	недовољан (1)