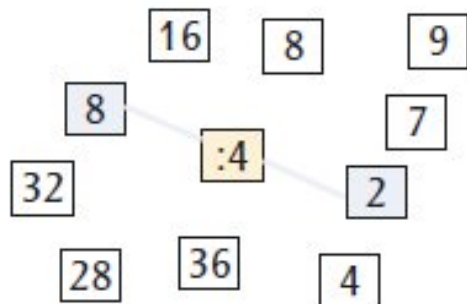


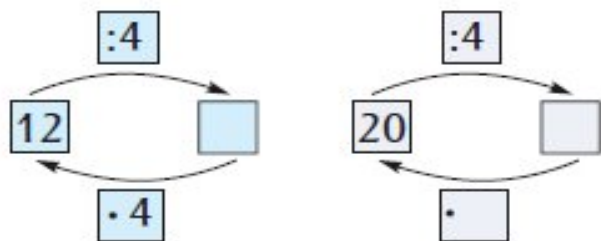
1.

Истом бојом обој и спој дељеник и количник, ако је делилац 4.



2.

Допуни.



3. Израчунај количник бројева 36 и 4.

---

4. Четири друга треба да поделе 28 бомбона на једнаке делове. Колико ће добити свако од њих?

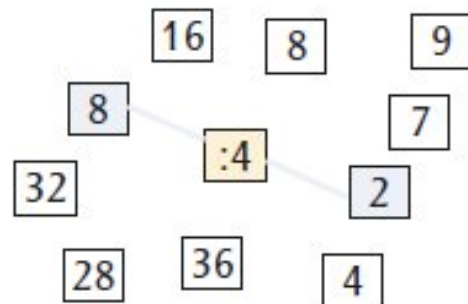
---

5. На полици има 28 књига. Сређене су у комплете од по 4. Колико је то комплета?

---

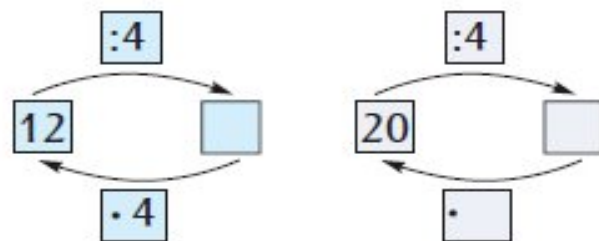
1.

Истом бојом обој и спој дељеник и количник, ако је делилац 4.



2.

Допуни.



3. Израчунај количник бројева 36 и 4.

---

4. Четири друга треба да поделе 28 бомбона на једнаке делове. Колико ће добити свако од њих?

---

5. На полици има 28 књига. Сређене су у комплете од по 4. Колико је то комплета?

---