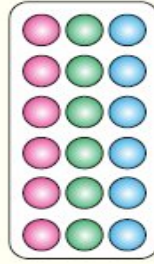
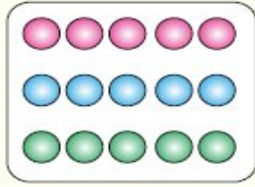
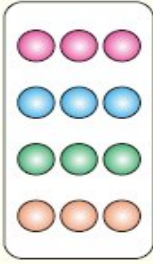


1.

За сваку слику напиши пример дељења.



\_\_\_\_\_

\_\_\_\_\_

\_\_\_\_\_

\_\_\_\_\_

2. Мира је убрала 12 ружа. У сваку вазу ставиће 3 руже. Колико ваза ће бити потребно? Запиши израз:



\_\_\_\_\_

3. Запиши израз према слици:

○ ○ ○ ○ ○

\_\_\_\_\_

○ ○ ○ ○ ○

○	○	
○	○	
○	○	

10 : \_\_\_\_

\_\_\_\_ : \_\_\_\_

4. Запиши речима израз:

8 : 2 \_\_\_\_\_

60 : 2 \_\_\_\_\_

32 : 2 \_\_\_\_\_

5. Испод сваког броја напиши његову половину:

46   24   66   96   18   100   70   52

\_\_\_\_\_

6. Напиши бројеве чије су половине дати бројеви:

23   12   31   13   45   7   44   49

\_\_\_\_\_

7. Према запису нацртај: а) 4 : 2

б) 16 : 2

♥ Дељеник подвуци, делилац заокружи, а количник обој плаво!

56 : 7 = 8, 100 : 2 = 50, 44 : 2 = 22, 16 : 16 = 1, 65 : 5 = 15, 24 • 4 = 6.