


1. Запиши пет бројева који су дељиви са 3: _____
са 4: _____

2. Напиши све бројеве треће десетице који су дељиви са четири:

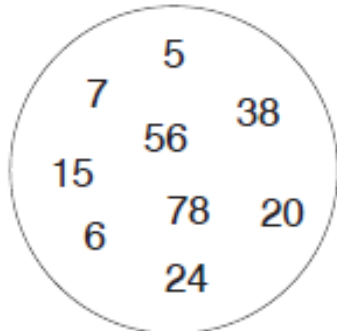
3. Напиши све парне бројеве до 30 који су дељиви са три:

4. Напиши све бројеве од 15 до 30 који су дељиви и са три и са четири:

5. Заокружи све бројеве дељиве са 3.



6. Заокружи све бројеве дељиве са 3 и дељиве са 4.




1. Запиши пет бројева који су дељиви са 3: _____
са 4: _____

2. Напиши све бројеве треће десетице који су дељиви са четири:

3. Напиши све парне бројеве до 30 који су дељиви са три:

4. Напиши све бројеве од 15 до 30 који су дељиви и са три и са четири:

5. Заокружи све бројеве дељиве са 3.



6. Заокружи све бројеве дељиве са 3 и дељиве са 4.

