


ПРЕДМЕТИ У ПРОСТОРУ И ОДНОСИ МЕЂУ ЊИМА , ГЕОМЕТРИЈСКИ ОБЛИЦИ

Име и презиме: _____


1. На слици је (заокружи слово испред тачног одговора):




- а) квадрат
- б) правоугаоник
- в) троугао



- а) квадрат
- б) правоугаоник
- в) троугао




- а) лопта
- б) круг
- в) ваљак



- а) квадрат
- б) коцка
- в) квадар

2. Обој следећим бојама:


плаво црвено зелено жуто



3. Спој линијама парове истог облика.

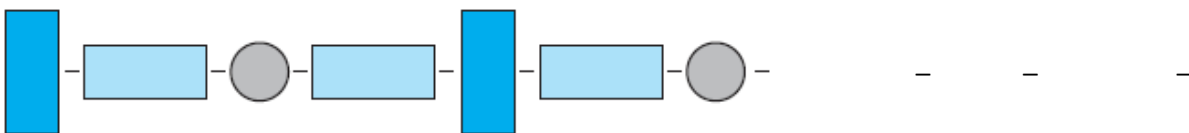


4. Повежи сваку модлу са одговарајућим трагом на тесту.



5. Настави започети низ.

а) нацртај још 4 фигуре.




б) нацртај још 3 фигуре.

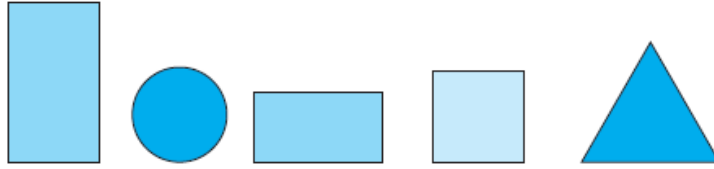


6. Посматрај облике и одговори:

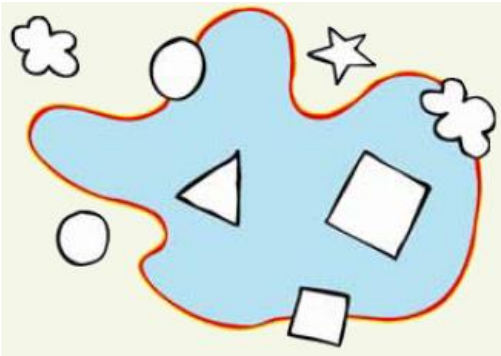
Која фигура се налази (заокружи знак испред тачног одговора):

а) лево од  ♥ правоугаоник ♪ квадрат ☀ круг ♣ троугао

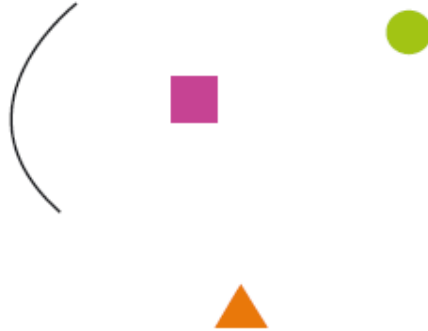
б) десно од  ♥ правоугаоник ♪ квадрат ☀ круг ♣ троугао



7. Оно што је **НА** затвореној линији обој зелено, оно што је **ВАН** линије обој жуто, а оно што је **У** обој црвено.



8. Доврши цртање затворене линије тако да круг буде **ВАН** ње, троугао **НА** њој, а квадрат **У** њој.



9. Правом линијом нацртај пут којим ће веверица доћи до жирова.

Кривом линијом нацртај пут којим ће пас доћи до кости.



Одговори: Дужи пут је прешао/ла _____.