

# САБИРАЊЕ И ОДУЗИМАЊЕ ДО 10 – ПРОВЕРА ЗНАЊА



Име: \_\_\_\_\_

## 1. Израчунај!

$4 + 2 = \underline{\quad}$

$8 + \underline{\quad} = 10$

$7 - 1 = \underline{\quad}$

$5 - \underline{\quad} = 5$

$3 + 5 = \underline{\quad}$

$\underline{\quad} + 4 = 9$

$5 - 3 = \underline{\quad}$

$\underline{\quad} - 7 = 2$

$9 + 0 = \underline{\quad}$

$3 + \underline{\quad} = 6$

$6 - 2 = \underline{\quad}$

$10 - \underline{\quad} = 6$

$6 + 4 = \underline{\quad}$

$\underline{\quad} + 7 = 10$

$4 - 4 = \underline{\quad}$

$\underline{\quad} - 5 = 3$

## 2. У сваки кружић упиши одговарајући знак $>$ , $<$ или $=$ .

$2 + 3 \bigcirc 7 - 2$

$4 + 5 \bigcirc 1 + 8$

$10 - 3 \bigcirc 6 + 3$

$8 - 4 \bigcirc 9 - 9$

$5 + 5 \bigcirc 10 - 0$

$2 + 1 \bigcirc 7 - 4$

## 3. Израчунај збир бројева 6 и 3.

Једнакост: \_\_\_\_\_

4. Умањеник је број 8, а умањилац претходник броја 4. Израчунај разлику.

Једнакост: \_\_\_\_\_

5. Марија има 9 година,  
а Јелена 4 године мање.  
Колико година има Јелена?

Једнакост: \_\_\_\_\_


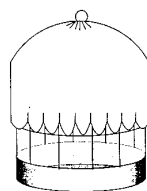
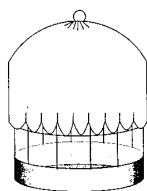
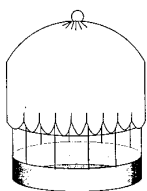
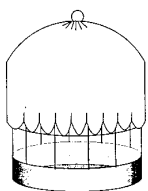
Одговор: \_\_\_\_\_

6. Ненад је добио 5 бомбона од баке и 3 од сестре. Од укупног броја бомбона 4 је дао другу.

Колико бомбона је остало Ненаду?

Одговор: \_\_\_\_\_

☺ Распореди 10 птица у четири кавеза тако да у кавезима буде увек различит број птица.



# САБИРАЊЕ И ОДУЗИМАЊЕ ДО 10 – ПРОВЕРА ЗНАЊА



Име: \_\_\_\_\_

## 1. Израчунај!

$5 + 2 = \underline{\quad}$

$7 + \underline{\quad} = 10$

$8 - 1 = \underline{\quad}$

$4 - \underline{\quad} = 4$

$4 + 5 = \underline{\quad}$

$\underline{\quad} + 3 = 9$

$5 - 3 = \underline{\quad}$

$\underline{\quad} - 7 = 2$

$8 + 0 = \underline{\quad}$

$3 + \underline{\quad} = 6$

$7 - 2 = \underline{\quad}$

$10 - \underline{\quad} = 2$

$6 + 4 = \underline{\quad}$

$\underline{\quad} + 7 = 10$

$6 - 6 = \underline{\quad}$

$\underline{\quad} - 5 = 3$

## 2. У сваки кружић упиши одговарајући знак $>$ , $<$ или $=$ .

$2 + 4 \bigcirc 8 - 2$

$4 + 5 \bigcirc 1 + 8$

$10 - 4 \bigcirc 5 + 3$

$8 - 3 \bigcirc 8 - 8$

$5 + 5 \bigcirc 10 - 0$

$2 + 1 \bigcirc 7 - 4$

## 3. Израчунај збир бројева 5 и 3.

Једнакост: \_\_\_\_\_

## 4. Умањеник је број 9, а умањилац претходник броја 4. Израчунај разлику.

Једнакост: \_\_\_\_\_

## 5. Маја има 9 година, а Даница 5 године мање. Колико година има Даница?

Једнакост: \_\_\_\_\_

Одговор: \_\_\_\_\_

## 6. Васа је добио 6 бомбона од баке и 3 од сестре. Од укупног броја бомбона 5 је дао другу.

Колико бомбона је остало Васи?

\_\_\_\_\_

Одговор: \_\_\_\_\_

☺ Распореди 10 птица у четири кавеза тако да у кавезима буде увек различит број птица.

