



### БРОЈАЊЕ. ЈЕДНАКОБРОЈНИ СКУПОВИ

1. Заокружи кокошку која је снела пет јаја.




2. На цртицама упиши колико балона има у левој, а колико у десној руци.

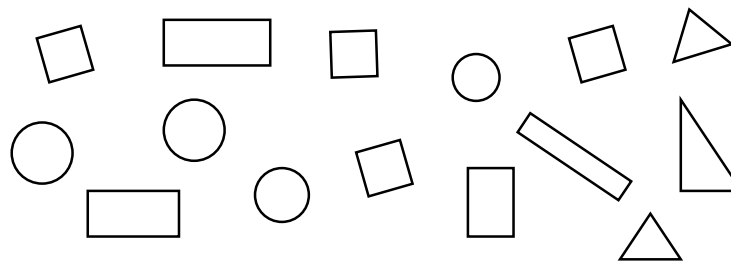


Колико је то укупно балона? \_\_\_\_\_

3. Да ли су нацртани скупови једнакобројни? \_\_\_\_\_  
Доцртај шта је потребно да они буду једнакобројни.



4. Издвој један скуп од четири члана плавом, и један скуп од седам чланова црвеном бојом.



5. Уцртај шта је потребно да би скупови повезани линијом били једнакобројни.

