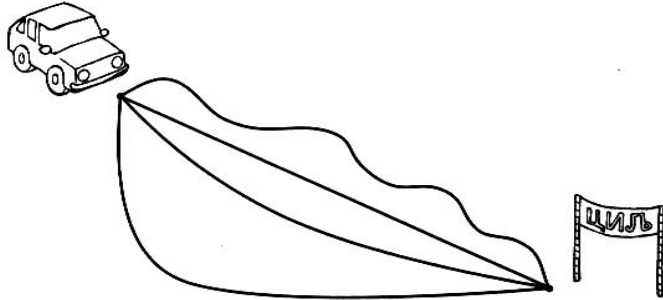


ДУЖ. ПОРЕЂЕЊЕ ПО ДУЖИНИ И ВИСИНИ

1. Црвеном бојом превуци линију којом је представљен најкраћи пут аутомобила до циља.



2. Од тачке М до тачке Т повуци две криве линије и две изломљене линије.



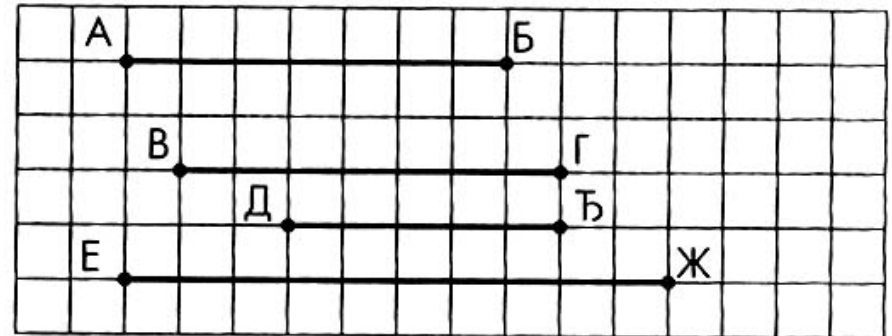
Колико још кривих и изломљених линија можеш повући од тачке М до тачке Т? _____

Колико правих линија може да се повуче од тачке М до тачке Т? _____


Која од ових линија представља најкраћи пут од једне до друге тачке? _____

НАЈКРАЋЕ РАСТОЈАЊЕ ИЗМЕЂУ ДВЕ ТАЧКЕ НАЗИВА СЕ ДУЖ.

3. Најдужу дуж превуци црвеном, а најкраћу зеленом бојом.



4. Најдужу оловку обој црвеном, а најкраћу плавом бојом.



5. Заокружи највише дрво, а најниже дрво обој.

