


Вежба 26

име и презиме _____

Пажљиво прочитај, а затим реши задатке.

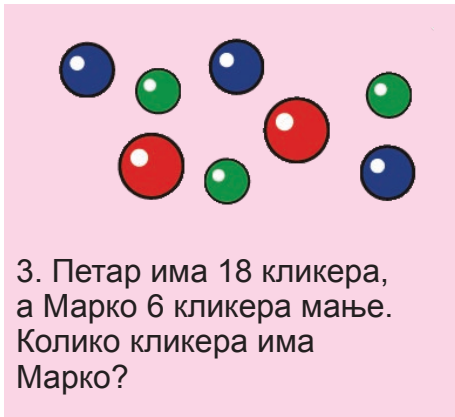


1. На тањиру је било 13 колача. Маја је појела 4. Колико колача је остало на тањиру?

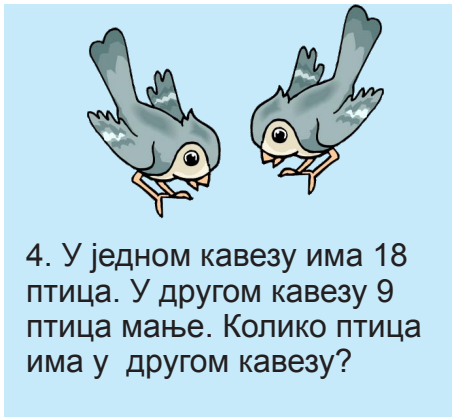
$$13 - 4 = \underline{\quad}$$



2. На торти је горело 10 свећица. Лазар је угасио 8. Колико свећица је остало да гори?



3. Петар има 18 кликера, а Марко 6 кликера мање. Колико кликера има Марко?



4. У једном кавезу има 18 птица. У другом кавезу 9 птица мање. Колико птица има у другом кавезу?



Бројеви до 20

Текстуални задаци - одузимање

поена

Решење 26

За сваки тачно решени задатак освајаш 2 поена.

1. На тањиру је било 13 колача. Маја је појела 4. Колико колача је остало на тањиру?

$$13 - 4 = 9$$

2. На торти је горело 10 свећица. Лазар је угасио 8. Колико свећица је остало да гори.

$$10 - 8 = 2$$

3. Петар има 18 кликера, а Марко 6 кликера мање. Колико кликера има Марко?

$$18 - 6 = 12$$

4. У једном кавезу има 18 птица. У другом кавезу 9 птица мање. Колико птица има у другом кавезу?

$$18 - 9 = 9$$



Бројеви до 20

Текстуални задаци - одузимање