

1. Заокружи бројеве дељиве са два:

6, 13, 20, 8, 42, 53, 37, 6, 12.

2. Напиши све бројеве 5. десетице дељиве са два.


3. Заокружи све бројеве дељиве са 5:











13, 20, 25, 34, 48, 50, 55, 60, 72.

4. Напиши све бројеве дељиве са 5, који су већи од 25, а мањи од 55.

5. У бројевном низу до 20 пронађи бројеве дељиве са 2 и 5.



 Спој линијама одговарајуће количнике.

3	   	10
3		9
2	  	8
5		6
4	  	5

1. Заокружи бројеве дељиве са два:

6, 13, 20, 8, 42, 53, 37, 6, 12.

2. Напиши све бројеве 5. десетице дељиве са два.


3. Заокружи све бројеве дељиве са 5:











13, 20, 25, 34, 48, 50, 55, 60, 72.

4. Напиши све бројеве дељиве са 5, који су већи од 25, а мањи од 55.

5. У бројевном низу до 20 пронађи бројеве дељиве са 2 и 5.



 Спој линијама одговарајуће количнике.

3	   	10
3		9
2	  	8
5		6
4	  	5

