

1. Шта није неопходно за живот:

1. вода
2. ваздух
3. спавање
4. храна
5. компјутер

2. Шта у природи даје светлост и топлоту:

1. Сунце
2. ветар
3. вода
4. Месец



3. Који део биљке је приказан на слици:

1. плод
2. лист
3. цвет
4. корен
5. стабљика



4. Скакавац за кретање користи:

1. уши
2. пераја
3. крила
4. ноге
5. шкрге

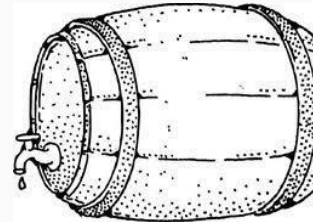
5. Вода:

1. нема боју
2. нема мирис
3. има мирис
4. има укус
5. нема укус
6. има боју



6. Која је природна непогода приказана на слици:

1. земљотрес
2. ураган
3. поплава
4. пожар



7. Означи 2 материјала од којих је направљен предмет на слици:

1. тканина
2. стакло
3. метал
4. дрво
5. пластика



8. Означи својства предмета са слике:

1. храпаво
2. провидно
3. глатко
4. тврдо
5. непровидно
6. меко



9. У којем делу дана је најјача сунчева светлост и топлота:

1. ноћ
2. вече
3. подне
4. јутро



10. Татина сестра је мени:

1. стрина
2. ујна
3. сестричина
4. тетка



11. За који празник везујемо дату слику:

1. Нова година
2. Ускрс
3. рођендан
4. Божић



12. Лечењем деце бави се:

1. педагог
2. педијатар
3. стоматолог
4. ветеринар

13. Означи зимзелено дрво:




1.




2.



3.



4.



14. Како се креће предмет на слици:

1. цик-цак
2. лево-десно
3. напред-назад
4. горе-доле



15. Којој врсти саобраћаја припада превозно средство са слике:

1. водени саобраћај
2. ваздушни саобраћај
3. копнени саобраћај