


Проверавамо знање  
Годишња доба – Сналажење у времену

Име и презиме: \_\_\_\_\_  
Датум: \_\_\_\_\_

1. Према датим цртежима напиши називе годишњих доба:




\_\_\_\_\_



\_\_\_\_\_



\_\_\_\_\_



\_\_\_\_\_

2. Колико има годишњих доба?

\_\_\_\_\_

Који је најкраћи месец у години?

\_\_\_\_\_

Када фебруар има 29 дана?

\_\_\_\_\_

Колико дана има април?

\_\_\_\_\_

У ком месецу се почиње летњи распуст?

\_\_\_\_\_

3. Напиши називе месеци у години који недостају. Обој месец у коме је твој рођендан црвеном бојом.

1. јануар

2.

3.

4. април

5.

6.

7. јул

8.

9. септембар

10.

11.

12.

4. Заокружи тачан одговор.

Пре марта је :

1 – фебруар

2 – мај

3 – април

После септембра је:

1 – јун

2 – август

3 – октобар

Пролећни месец је:

1 – јануар

2 – новембар

3 – април

Између  
маја и јула је:

1 – август

2 – јун

3 – март

3. а) Делови дана су : \_\_\_\_\_ и \_\_\_\_\_  
б) Обданица је \_\_\_\_\_  
в) Ноћ је \_\_\_\_\_



4. Вече је део дана када сунце \_\_\_\_\_  
Јутро је део дана када сунце \_\_\_\_\_

5. Како се назива део дана који је:

- а) између јутра и поднева 
- б) половина ноћи 
- в) између поднева и вечери 

6. Које је сада доба дана?  
\_\_\_\_\_

7. Увече другарима пожелимо \_\_\_\_\_, а пре спавања укућанима \_\_\_\_\_.

8. а) Време од седам дана назива се : \_\_\_\_\_

б) Дани у недељи су испремештани. Напиши их по реду.



четвртак, субота, уторак, петак среда, понедељак, недеља,

в) Заокружи у претходном задатку нерадне дане!

9. Одговори на питања.

- а) Који је данас дан? \_\_\_\_\_  
б) Који ће дан бити сутра? \_\_\_\_\_  
в) Који ће дан бити прекосутра? \_\_\_\_\_

10. Одговори на питања.



Шта дечак ради данас? \_\_\_\_\_

Када је дечак писао писмо? \_\_\_\_\_

Када ће се дечак играти? \_\_\_\_\_