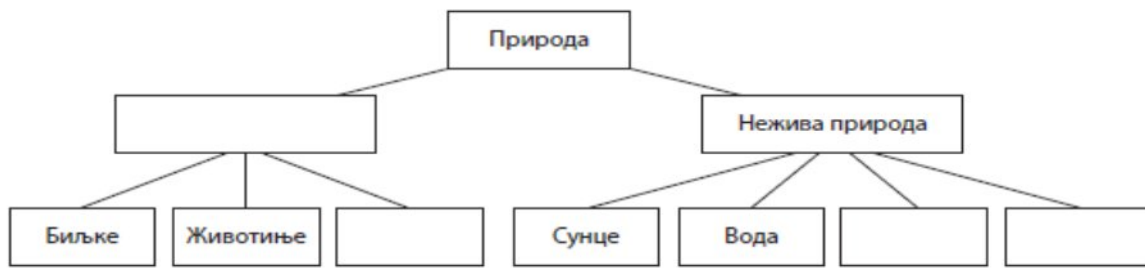


1. Попуни празна поља:



2. Које су од наведених карактеристика **заједничке за сва жива бића**?

Упиши у квадратиће испред свих тачних одговора.

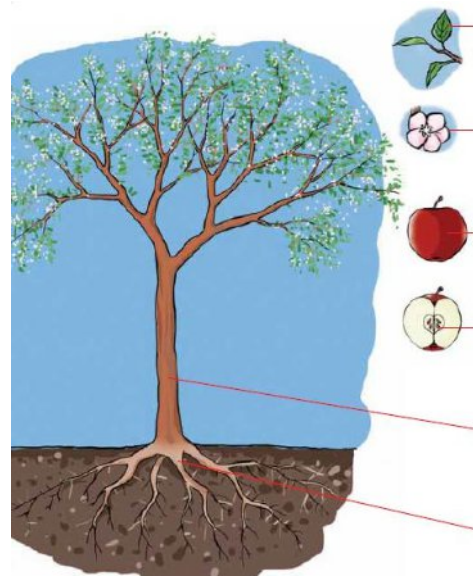
- лете хране се рађају се говоре умиру дишу

3. По чему се **биљке** разликују од осталих живих бића? Заокружи слово испред тачног одговора.

- а) дишу б) расту и развијају се в) стварају храну г) остављају потомство

4. Повежи део биљке са његовом улогом:

- | | |
|--------|--|
| Стабло | • настаје из цвета и у њему се налази семе |
| Плод | • помоћу сунчеве светлости и топлоте ствара храну |
| Лист | • спроводи воду и друге материје из земље од корена до листова |
| Семе | • причвршћује биљку за подлогу и упија материје |
| Корен | • из њега ниче нова биљка |



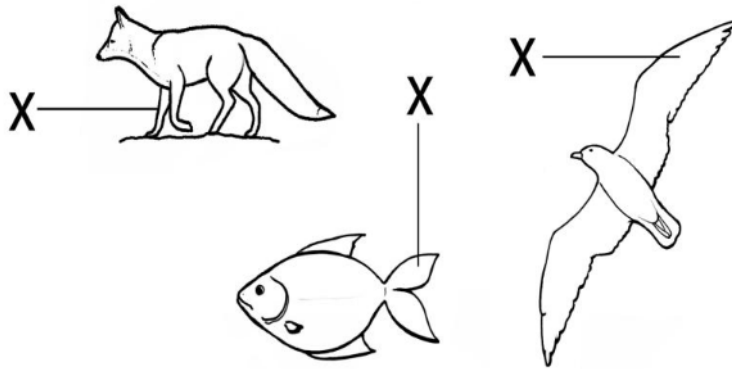
5. Заокружи слово испред назива **станишта** у коме живе детлић, лисица и веверица.

- а) шума б) бара в) њива г) ливада

6. Повежи биљку са групи којој припада:

- | | |
|------------------------|-----------------|
| Гајене биљке | • кукуруз |
| | • маслчак |
| Самоникле биљке | • парадајз |
| | • шумске јагоде |

7. Погледај слику и допуни реченицу.



Део тела животиње означен са X служи за _____.

8. На линији испред назива животиње упиши број који означава да ли је то дивља или домаћа животиња.

- | | |
|------------|-------------|
| 1 – дивља | _____ свиња |
| 2 – домаћа | _____ овца |
| | _____ јелен |
| | _____ вук |
| | _____ коза |

9. Људи имају различите користи од животиња. Пажљиво прочитај користи (скупове речи)

и на линији напиши о којој животињи је реч:

- месо, млеко, рогови, помоћ у раду _____,
- месо, јаја, перје _____.

10. Споји мајке и њихове младунце:

- | | |
|-----------|----------|
| крава • | • јагње |
| кобила • | • теле |
| овца • | • ждребе |
| кокошка • | |

11. Повежи линијом назив животиње и чиме се она храни.

- | | |
|---------|-------------|
| крава • | • месојед |
| свиња • | • биљојед |
| вук • | • сваштојед |
| овца • | |

