





ПРОВЕРА ЗНАЊА

1. Обој јелкицу поред тачне тврдње.

- Природа је све оно што нас окружује. 
- Жива и нежива природа чине природу. 
- Човек је најодговорнији за очување природе и њених богатстава. 
- Људи, биљке и животиње могу да живе без ваздуха. 

2. Заокружи **ДА** ако је тврдња тачна или **НЕ** ако је нетачна.

- Човек помаже земљишту тако што га загађује.
ДА **НЕ**
- Коришћењем неких извора енергије загађујемо околину.
ДА **НЕ**

3. Заокружи све тачне тврдње.

Вода има следеће особине:

- а) течност, без боје, мириса, укуса,
- б) када се загрева претвара се у лед,
- в) заузима простор и има облик посуде у којој се налази,
- г) када се смрзне претвара се у лед,
- д) није провидна,
- ђ) кружи у природи

4. Заокружи све тачне тврдње. **Ваздух:**

- а) налази се свуда око нас,
- б) сиве је боје,
- в) покреће ветрењаче и једрењаче,
- г) има облик простора у ком се налази,
- д) при згревању се шири, а при хлађењу скупља,
- ђ) нема га у земљишту,
- е) кретање ваздуха у природи назива се ветар.

5.

Спој линијом врсте тла са одговарајућим особинама.

- | | |
|------------|--|
| глинуша * | * најплодније земљиште, богато хумусом |
| црница * | * брзо пропушта воду, лако се загрева и суши |
| пескуша * | * садржи велику количину честица гвожђа |
| црвеница * | * збијено и лепљиво земљиште, тешко пропушта воду и ваздух |



6. На линијама испред описа активности упиши број који означава да ли је реч о повољном или неповољном деловању човека на природу.

- | | |
|----------------------|--------------------------------------|
| 1 – повољно | _____ пошумљавање |
| 2 – неповољно | _____ рециклирање |
| | _____ испуштање отпадних вода у реку |
| | _____ лов угрожених врста животиња |
| | _____ непланска сеча шума |

