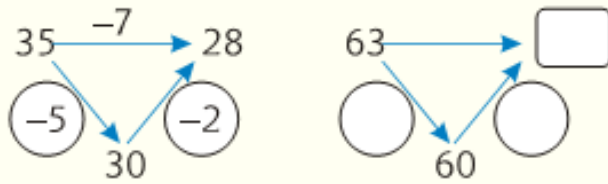


1. Израчунај колико је:  $35-7$  и  $63-5$ .



$$35-7 = (35-5)-2 = \underline{\hspace{2cm}}$$

$$63-5 = \underline{\hspace{2cm}}$$

2. Израчунај:

$$64-5 = \square \quad 33-4 = \square$$

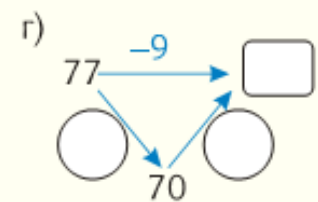
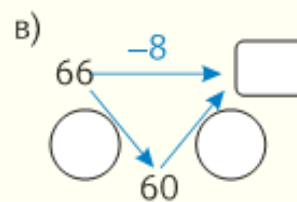
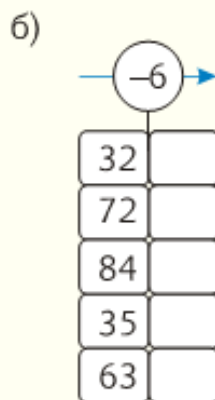
$$64-6 = \square \quad 33-7 = \square$$

$$64-9 = \square \quad 33-6 = \square$$

$$64-7 = \square \quad 33-8 = \square$$

3. Жељко је залепио у албум 66 сличица, а Марко за 8 мање. Колико је сличица залепио Марко?

4. Израчунај:



$$66-8 = (66-6)-2;$$

$$77-9 = \underline{\hspace{2cm}}$$

$$= \underline{\hspace{2cm}}$$

$$= \underline{\hspace{2cm}}$$

5. Попуни празна места:

а)

+	6	3	9	5
48				
79				
85				

