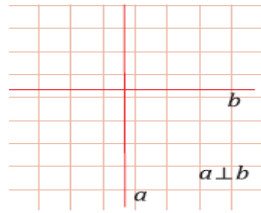


НОРМАЛНЕ ПРАВЕ



1. Нацртај праве а и б које су нормалне

2. Помоћу знака \perp напиши следеће реченице
-права b нормална је на праву d
-права m нормална је на праву n

3. Нацртај праве према следећим захтевима :

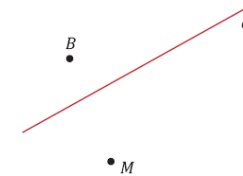
$$a \perp h \quad t \perp h \quad l \perp k$$

ПАРАЛЕЛНЕ ПРАВЕ

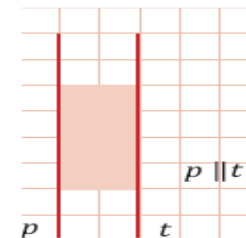


1. Нацртај праве а и б које су паралелне

2. Нацртај праве m и b кроз тачке M и B ван праве a тако да је $a \parallel m$ и $a \parallel b$.



3. Нацртај праву m којој припада тачка B тако да је $m \parallel p$ и $m \parallel t$.



. B