

## Задатак за данас

1. НЕДЕЉА • 1. ДАН



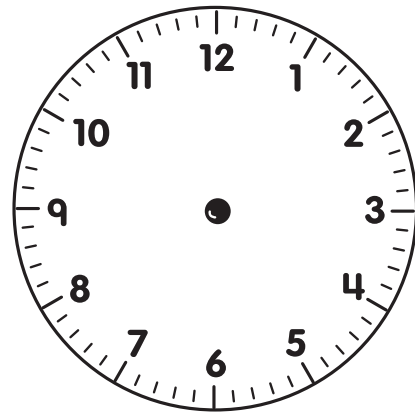
У парку

Реља и Ања су били у парку.  
У парк су стигли у 10.00.

Реља и Ања су се играли у парку 1 сат. У колико сати су отишли из парка?

Простор за рад:

Прикажи одговор на сату.



Одговор:

\_\_\_\_\_ . \_\_\_\_\_

## Задатак за данас

1. НЕДЕЉА • 2. ДАН



У парку

На љуљашкама је 12 деце.  
Њих 5 су дечаци.

Колико има девојчица?

Простор за рад:

Одговор:

\_\_\_\_\_ девојчица

## Задатак за данас

1. НЕДЕЉА • 3. ДАН



У парку

На тобогану се играло  
4 деце. Реља и Ања  
су им се придружили.  
Затим је дошло још  
5 деце.

Колико се деце играло  
на тобогану?

Простор за рад:

Одговор:

\_\_\_\_\_ деце

## Задатак за данас

1. НЕДЕЉА • 4. ДАН



У парку

У парку има 6 клупа.  
На свакој клупи седи  
по 2 људи.

Колико укупно људи  
седи на клупама?

Простор за рад:

Одговор:

\_\_\_\_\_ људи

# Задатак за данас


1. НЕДЕЉА • 5. ДАН








У парку

Погледај табелу.

На њој је приказано колико је деце било у парку.



Љуљашке	
Тобоган	
Песак	
Пењалица	

 = 1 дете

1. Колико деце је било више у песку него на тобогану? \_\_\_\_\_ деце више
2. Колико је деце било више на пењалици него на љуљашкама? \_\_\_\_\_ деце више