




1. Ко чини породицу? \_\_\_\_\_

2. Родитељи твог тате и маме теби су \_\_\_\_\_, ти си њима \_\_\_\_\_.

3. Упиши у облачић празнике који се славе у твојој породици:



4. Насеља се деле на \_\_\_\_\_ и \_\_\_\_\_.

5. Насеље у ком живим зове се \_\_\_\_\_. То је СЕЛО ГРАД. (заокружи)

6. Шта можеш да видиш у граду или у селу, смисли и у празно поље упиши бар по три одговора

ГРАД →

СЕЛО →

7. Спој стрелицама:

ПУТНИЧКИ САОБРАЋАЈ

ПРЕВОЗ РОБЕ

ТЕРЕТНИ САОБРАЋАЈ

ПРЕНОС ВЕСТИ

ИНФОРМАЦИОНИ САОБРАЋАЈ

ПРЕВОЗ ЉУДИ



8. Која саобраћајна средства се користе у путничком саобраћају: (наведи бар три)

9. Наведи врсте саобраћаја према путевима куда се крећу саобраћајна средства:

\_\_\_\_\_

\_\_\_\_\_

\_\_\_\_\_



10. Део пута којим се крећу аутомобили зове се \_\_\_\_\_.

11. Тротоар је \_\_\_\_\_.

12. На левој страни улице на зградама и кућама су \_\_\_\_\_ бројеви, а на десној \_\_\_\_\_ бројеви.

13. Главне стране света су \_\_\_\_\_, \_\_\_\_\_, \_\_\_\_\_ и \_\_\_\_\_.

14. Сунце излази на \_\_\_\_\_, а залази на \_\_\_\_\_.

ИМЕ И ПРЕЗИМЕ:

Број бодова 14

до 6 бодова оцена 1

7 – 8 бодова оцена 2

9 – 10 бодова оцена 3

11 – 12 бодова оцена 4

13 – 14 бодова оцена 5

