

ДА СЕ МАЛО ЗАГРЕЈЕМО

Шта је тачно? Заокружи одговор.

Најмањи природни број је број 0.



ДА НЕ

Да ли Петров отац има сина?



ДА НЕ

Ако Марко има онолико килограма колико и Аца, а Аца онолико колико Мато, Мато има онолико килограма колико их има Марко.



ДА НЕ

$$8 \cdot 0 = 8$$

ДА НЕ

Најмањи двоцифрени број налази се у првој десетици.



ДА НЕ

Правилно се каже:



ДА НЕ

Помоћу 9 цифара можемо написати било који број.




ДА НЕ

Да ли је тачна једнакост:

$$2 + 2 : 2 = 3 ?$$

ДА НЕ

Најмањи двоцифрени број је највећи број прве десетице.



ДА НЕ

Ако цео штап има два краја, половина штапа има један крај.



ДА НЕ

Ако две руке имају 10 прстију, онда 10 руку има 100 прстију.



ДА НЕ

Разлика бројева


$$8 \text{ и } 5 \text{ је}$$
$$8 - 5 = 3$$

ДА НЕ

БРОЈЕВИ ДО 1 000

1

У средину првог цвета упиши најмањи троцифрени број. У сваки следећи цвет упиши број за 14 већи од претходног.



2

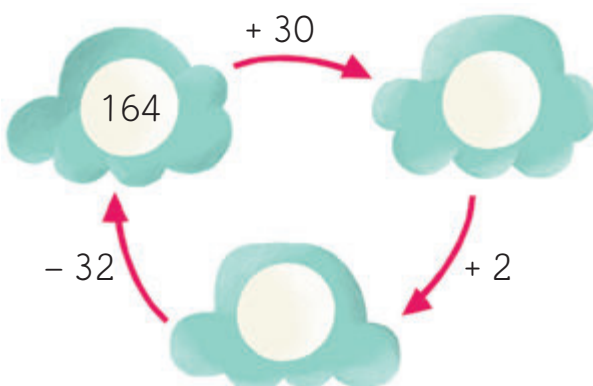
Израчунај вредност израза.



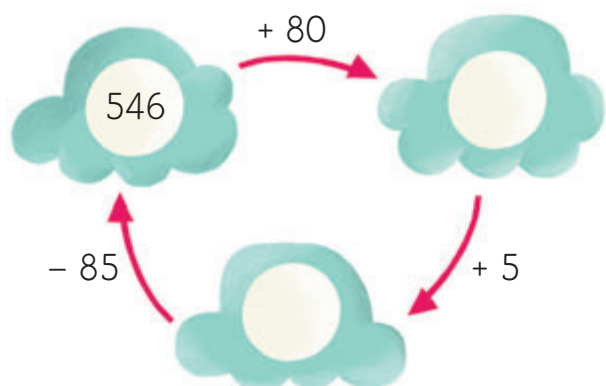
3

Попуни шему.

а)



б)




РАЗЛОМЦИ

1


Који је део целе фигуре обојен?



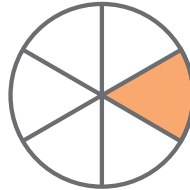
.....



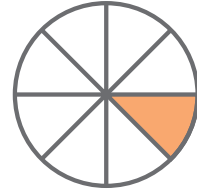
.....



.....



.....



.....

2

Обој половину половине дате фигуре.
Запиши разломком који је део фигуре обојен.
.....




3

Шта је тачно?

- а) Петина хлеба је већа од трећине истог хлеба.
- б) Трећина хлеба је већа од петине истог хлеба.
- в) Петина хлеба је исто што и трећина тог хлеба.

4

- а) Који је део правоугаоника обојен?
- б) Који део правоугаоника није обојен?
- в) Колико још поља правоугаоника треба обојити да би била обојена његова половина?



МЕРЕ

1

Јова је с братом и сестром пошао у школу. Јовин корак је дуг 90 cm, корак његовог брата 110 cm, а његове сестре један метар. Ко је од њих од куће до школе направио највише корака, а ко најмање?

Највише корака: Најмање корака:



2

Два пужа су пошла из истог места – један на исток, други на запад. Први за један дан пређе 208 cm, а други 1 m 8 dm. Колико су они били удаљени један од другог после два дана?

а) 7 m 7 dm 6 cm б) 766 cm в) 632 cm г) 8 m 1 dm 2 cm



3

Воз је прешао 352 km за осам сати, а брод 132 km за шест сати.

а) Колики је пут прелазило воз за један сат, а колики брод?

Воз: Брод:

б) Ко се кретао брже?

Колико пута?