

## Како да решаваш текстуалне задатке

Текстуални задаци су кратке математичке приче у којима су подаци дати бројевима.

Текстуални задаци се најчешће завршавају питањем. Користећи знања из математике, одговараш на питање или решаваш проблем.



Прочитај

**Прочитај текстуални задатак.** Покушај да у глави створиш слику онога што си прочитао/прочитала.


**Запитај се:** О чему говори овај текстуални задатак?



Размисли

**Прочитај задатак поново.** Размисли о подацима и детаљима задатка.


**Запитај се:** Шта је то што треба да израчунам?



Нацртај

**Представи задатак цртежом или шемом.** Сваки број треба да има место на шемџи. Остави простор и за број који треба да израчунаш.

**Запитај се:** Шта сваки од бројева представља?



Решџ

**Решџ задатак.** Одлучи шта ћеш урадити с бројевима. Понекад ћеш морати да обавиш више од једне рачунске радње.

**Запитај се:** Шта треба да пребројим, саберем или одузнем? Да ли треба да обавим једну радњу или неколико њих?



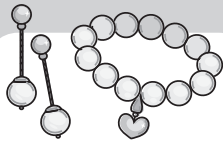
Провери

**Провери свој одговор.** Упиши одговор у шему коју си нацртао/нацртала.

**Запитај се:** Да ли одговор има смисла?

## Задатак за данас

1. НЕДЕЉА • 1. ДАН



Школски базар

Ученици једне школе Лепограда организовали су школски базар. У суботу је било 350 посетилаца, а у недељу 480 посетилаца.

1. Колико је посетилаца укупно дошло на базар тог викенда?
2. Колико је посетилаца више дошло у недељу него у суботу?

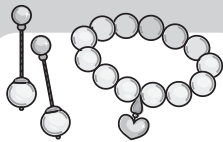
Простор за рад:

Одговор:

1. \_\_\_\_\_ посетилаца
2. \_\_\_\_\_ посетилаца више

## Задатак за данас

1. НЕДЕЉА • 2. ДАН



Школски базар

Јасна је на базару продавала наруквице. У суботу је продала 38 наруквица, а у недељу 43 наруквице.

Процени колико је укупно наруквица продала.

Заокружи одговор до најближе десетице.

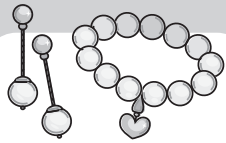
Простор за рад:

Одговор:

\_\_\_\_\_ наруквица

## Задатак за данас

1. НЕДЕЉА • 3. ДАН



Школски базар

Прочитај податке. Откриј колико је привезака за кључеве направила Нађа.

### Подаци:

- Број привезака је већи од 200, а мањи од 300.
- Овај број изговараш кад бројиш по два и по пет.
- Збир цифара у броју је 6.

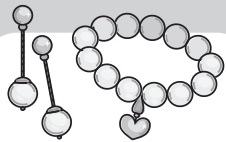
Простор за рад:

Одговор:

\_\_\_\_\_ привезака

## Задатак за данас

1. НЕДЕЉА • 4. ДАН



Школски базар

Мома је на базару продавао свећице. Посетиоци су на базару плаћали жетонима. Свака Момина свећица коштала је 2 жетона.

Мома је у суботу продао 15, а у недељу 20 свећица. Колико је жетона Мома зарадио?

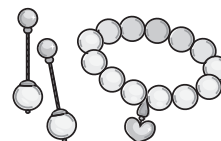
Простор за рад:

Одговор:

\_\_\_\_\_ жетона

## Задатак за данас

1. НЕДЕЉА • 5. ДАН



Школски базар

Учитељица Вера је за базар правила огрлице од перлица. Користила је црне, беле и сиве перлице. Свака огрлица је имала по 24 перлице.

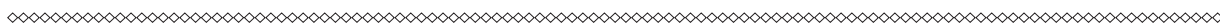
Вера је за израду огрлица користила 3 шеме. Шеме су приказане на слици испод задатка. Проучи сваку шему, па одговори на питања.



Шема А




1. Које боје је 12. перлица у низу у овој шеми? \_\_\_\_\_



Шема Б



2. Које боје је 18. перлица у низу у овој шеми? \_\_\_\_\_



Шема В



3. Које боје је 22. перлица у низу у овој шеми? \_\_\_\_\_