


1. На слици је приказана:

- a) отворена крива линија
- b) отворена изломљена линија
- c) дуж
- d) затворена изломљена линија

2. Који елемент не припада скупу елемената који лете:



3. Речима исправно написан број 11:

- a) једанајст
- b) једанаест
- c) једанајест
- d) једанест



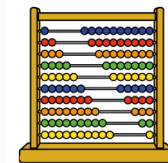
4. Претходник и следбеник броја 30 су:

- a) 19 и 29
- b) 31 и 29
- c) 29 и 31
- d) 21 и 31



5. Који знак би требало да стоји између: 80 \_\_\_\_\_ 8D

- a) <
- b) =
- c) >



6. Који број прве десетице није једноцифрени број:

- a) 9
- b) 0
- c) 1
- d) 10




7. Непарни бројеви друге десетице су:

- a) 11, 13, 15, 17 и 19
- b) 12, 14, 16, 18 и 20
- c) 1, 3, 5, 7 и 9



8. Који је ово број: 1D 0J

- a) 0
- b) 11
- c) 10
- d) 1



9. Који знак би требало да стоји између:  $70+10$  \_\_\_\_\_  $60$

- a) >
- b) <
- c) =



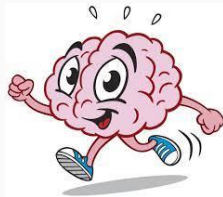
10. Локомотива је кренула са 9 вагона. У Ваљеву са 2 откачена, а у Ужицу су откачили још 3 вагона. Колико је вагона стигло до Београда:

- a) 3
- b) 2
- c) 4
- d) 7



11. Умањеник је 87, а умањилац 18. Израчунај разлику:

- a) 79
- b) 68
- c) 69
- d) 58




12. Кликни три броја да би њихов збир био 10:

- a) 6
- b) 5
- c) 3
- d) 4
- e) 2



13. На Мајином столу стоје 22 књиге. На Ацином их има 6 мање. Колико има књига на оба стола:

- a) 44
- b) 28
- c) 16
- d) 38



14. Лука има 1 новчаницу од 50 динара, 2 кованице од 10 динара и 2 кованице од 2 динара. Лука је купио лубеницу које је коштала 35 динара. Колико је новца остало Луки:

- a) 39 динара
- b) 49 динара
- c) 29 динара
- d) 24 динара