



1. На слици је приказана:

- a) изломљена линија
- b) затворена крива линија
- c) права линија
- d) отворена крива линија

2. Који елемент не припада скупу елемената истог облика:



3. Речима исправно написан број 60:

- a) шесет
- b) шездесет
- c) шездесет
- d) шездесет



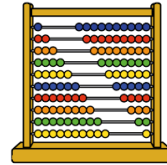
4. Претходник и следбеник броја 40 су:

- a) 41 и 42
- b) 39 и 42
- c) 39 и 41
- d) 29 и 41



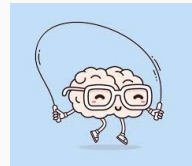
5. Бројеви 7. десетице су:

- a) 71, 72, 73, 74, 75, 76, 77, 78, 79, 80
- b) 81, 82, 83, 84, 85, 86, 87, 88, 89, 90
- c) 61, 62, 63, 64, 65, 66, 67, 68, 69, 70



6. Који би знак требало да стоји између: 8D 3J _____ 3D 8J

- a) =
- b) <
- c) >



7. Парни бројеви друге десетице су:

- a) 2, 4, 6, 8 и 10
- b) 12, 14, 16, 18 и 20
- c) 11, 13, 15, 17 и 19



8. Који је ово број: 0D 6J

- a) 6
- b) 16
- c) 0
- d) 60



9. Који знак би требало да стоји између: $20+10$ _____ $40-10$

- a) <
- b) >
- c) =



10. Нина је имала 12 лего коцкица. 2 је поклонила Јани, а 4 је негде изгубила. Колико је лего коцкица остало Нини?

- a) 4
- b) 8
- c) 9
- d) 6



11. Умањеник је 62, а умањилац 38. Израчунај разлику:

- a) 34
- b) 42
- c) 24
- d) 26




12. Који број недостаје у следећем низу: $6 \rightarrow 7 \rightarrow 8 \rightarrow 6 \rightarrow \underline{\quad} \rightarrow 8 \rightarrow 6 \rightarrow 9 \rightarrow 8 \rightarrow 6 \rightarrow 10 \rightarrow 8 \dots$

- a) 6
- b) 8
- c) 7
- d) 11



13. Кројач Мргуд је сашео 32 капута. Кројач Кефало је сашео 7 капута мање од Мргуда. Колико су капута сашили заједно Мргуд и Кефало:

- a) 67
- b) 39
- c) 57
- d) 47



14. Лела има 1 новчаницу од 20 динара, 2 кованице од 5 динара и једну кованицу од 2 динара. Лела је купила шал који кошта 18 динара. Колико је новца остало Лели?

- a) 4 динара
- b) 14 динара
- c) 32 динара
- d) 12 динара