



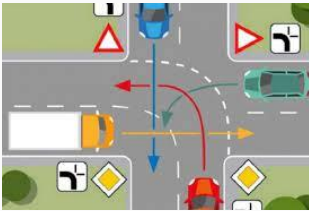
1. Која се животиња на слици налази ИЗМЕЂУ козе и овце:

1. коњ
2. крава
3. ћуран
4. петао



2. Балерина са слике стоји на:

1. левој нози
2. десној нози



3. Црвени аутомобил са слике се креће:

1. нагоре
2. надоле
3. налево
4. надесно



4. Дечаци на слици се налазе:

1. на истој страни улице
2. на супротним странама улице



5. На које геометријско тело те подсећа ваза са слике:

1. купа
2. ваљак
3. коцка
4. квадар



6. На коју геометријску фигуру те подсећа саобраћајни знак са слике:

1. правоугаоник
2. квадрат
3. троугао
4. круг



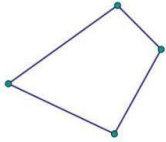
7. Воће се налази:

1. на корпи
2. у корпи
3. ван корпе



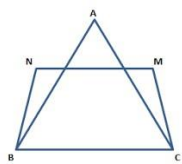
8. Инструмент на слици приказује:

1. отворену изломљену линију
2. отворену криву линију
3. затворену праву линију



9. На слици је приказана:

1. затворена изломљена линија
2. затворена крива линија
3. затворена права линија



10. Колико има тачки пресека на датом цртежу:

1. 4
2. 6
3. 2
4. 5



11. На слици се налазе предмети:

1. истог облика и исте боје
2. различитог облика и различите боје
3. различитог облика, исте боје
4. истог облика, различите боје



12. Ко је на слици најнижи:

1. девојчица у розе хаљини
2. девојчица у плавој хаљини
3. дечак у кратким панталонама
4. дечак у белој кошуљи
5. дечак у плавој мајици са срцем

13. Који се предмет по облику разликује од осталих:



1.



2.



3.



4.



5.



14. Који дечак на слици има најдуже панталоне:

1. трећи
2. други
3. први



15. Која је кравата шира:

1. исте су ширине
2. лева
3. десна