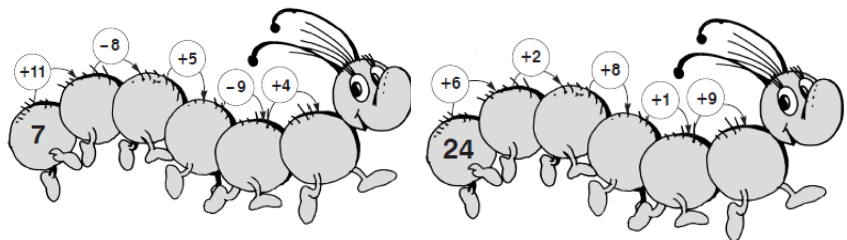
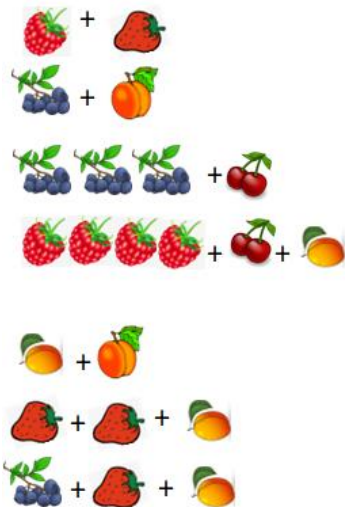


Израчунај.



Упиши >, < или =, тако да запис буде тачан.

$25 + 3 \square 21 + 4$

$56 + 3 \square 50 + 9$

$32 + 6 \square 38 + 1$

$61 + 5 \square 6 + 60$

$47 + 2 \square 8 + 40$

$73 + 4 \square 4 + 71$

$(25 + 3) - 7 = \underline{\hspace{2cm}}$

$(27 - 7) + 40 = \underline{\hspace{2cm}}$


$(36 + 4) - 10 = \underline{\hspace{2cm}}$

$(68 - 7) + 5 = \underline{\hspace{2cm}}$

$(49 - 5) + 6 = \underline{\hspace{2cm}}$

$(74 + 6) - 40 = \underline{\hspace{2cm}}$

Цветове са истим резултатом обој истом бојом. Један цвет је остао без свог пара – допуни празан цвет рачуном па и та два цвета обој.



* Маша је замислила неки број. „Да ли је то број 31?“, упитала је мама. „Не, мој број је за 6 већи“, каже Маша.

Који број је Маша замислила?

_____ Маша је замислила број _____.

* Тијана је посадила 36 луковица лала а зумбула за 4 мање. Колико је луковица зумбула посадила?

_____ Тијана је посадила _____ луковице.

* У парку расте 22 стабла брезе и 8 стабала храста. Колико стабала расте у парку?

_____ У парку расте _____ стабала.

* У школи је 78 девојчица а дечака за 6 мање. Колико је дечака у школи?

_____ У школи је _____ дечака.

* Из учионице је изашло 5 ученика и у одељењу је остало 22. Колико је ученика у том одељењу?

_____ У одељењу је _____ ученика.