








ВЕЋЕ (>), МАЊЕ (<), ЈЕДНАКО (=)

Упореди приказане резултате на турниру у стоном тенису.
У празно поље упиши знак >, < или =.



ЗА КОЛИКО ВИШЕ, ЗА КОЛИКО МАЊЕ?

Свака лопта у табели представља један дати кош. Упореди поготке кошаркаша са слике.

 <p>Оги</p>	
 <p>Сара</p>	
 <p>Аца</p>	

- Ко је постигао **више** кошева, Сара или Оги?

Заокружи. САРА ОГИ

- За колико више? – = За више.

- Ко је постигао **мање** кошева, Оги или Аца?

Заокружи. ОГИ АЦА


- За колико мање? – = За мање.

За колико је неки број већи или мањи од другог броја рачунамо тако што од већег броја одузмемо мањи број.

Обележи дресове. Број дреса једнак је разлици бројева који се на њему налазе.



Израчунај. На свакој заставици упиши резултат.



Израчунај и ово.

а) Од највећег броја друге десетице одузми разлику бројева 15 и 9.

б) Израчунај број који је за 6 већи од разлике бројева 14 и 5.