



ПРИМЕРАК ЗА УЧЕНИКА

Република Србија  
МИНИСТАРСТВО ПРОСВЕТЕ  
ЗАВОД ЗА ВРЕДНОВАЊЕ КВАЛИТЕТА  
ОБРАЗОВАЊА И ВАСПИТАЊА

ЗАВРШНИ ИСПИТ НА КРАЈУ ОСНОВНОГ ОБРАЗОВАЊА И ВАСПИТАЊА

# ТЕСТ ГЕОГРАФИЈА

## ИДЕНТИФИКАЦИОНИ ОБРАЗАЦ

ИМЕ, ИМЕ ЈЕДНОГ РОДИТЕЉА/ДРУГОГ ЗАКОНСКОГ ЗАСТУПНИКА, ПРЕЗИМЕ УЧЕНИКА

ИДЕНТИФИКАЦИОНИ БРОЈ УЧЕНИКА

ИДЕНТИФИКАЦИОНИ БРОЈ УЧЕНИКА									

ОСНОВНА ШКОЛА \_\_\_\_\_  
МЕСТО \_\_\_\_\_  
ОПШТИНА \_\_\_\_\_


ПОТПИС ДЕЖУРНОГ НАСТАВНИКА

Резултати се могу погледати на порталу **Моја средња школа**: <https://mojasrednjaskola.gov.rs> уносом јединственог идентификационог броја ученика (десетоцифрена шифра ученика). Ради преузимања скенираног теста у пдф формату, у делу где су доступни резултати завршног испита, неопходно је унети јединствену шифру теста.

**Јединствена шифра теста:** 170620260842

Уколико родитељ / други законски заступник има налог на порталу **Мој есДневник** или има налог на **Порталу за електронску идентификацију eID.gov.rs**, којим приступа порталу **Мој есДневник**, тада, осим увида у резултате завршног испита, на порталу **Моја средња школа** може искористити и неку од следећих електронских услуга: подношење приговора на резултате завршног испита, подношење електронске листе жеља и подношење електронске пријаве за упис у средњу школу.

## УПУТСТВО ЗА РАД

- Тест који треба да решиш има **20 задатака**. За рад је предвиђено **120 минута**.
- Задатке не мораш да радиш према редоследу којим су дати.
- Током рада можеш да користиш графитну оловку и гумицу, али не смеш да користиш калкулатор и мобилни телефон.
- Коначне одговоре и поступак напиши **плавом хемијском оловком**.
- Одговор који је написан само графитном, црном хемијском или „пиши-бриши“ оловком неће бити признат.
- У задацима са понуђеним одговорима неће бити признати преправљани одговори.
- У задацима са понуђеним одговорима, у којима је само један тачан одговор, добијаш 0 бодова ако поред тачног одговора означиш и неки нетачан.
- Обрати пажњу на то да се задаци разликују по начину на који треба да даш одговор.
- Немој ништа уписивати на QR кодове (  ) који се налазе на свакој страни теста.

У неким задацима изабраћеш тачан одговор тако што ћеш обојити одговарајући кружић. У задацима у којима постоји више тачних одговора потребно је обојити више кружића. Води рачуна о томе да кружић мора бити обојен, јер ће ти само тако одговор бити признат.

ПРИМЕР ОБОЈЕНИХ КРУЖИЋА
У задатку са једним тачним одговором
Који је главни град Републике Србије? Обој кружић испред тачног одговора. <input type="radio"/> Нови Сад <input checked="" type="radio"/> Београд <input type="radio"/> Ниш <input type="radio"/> Крушевац
У задатку са више тачних одговора
Обој <b>кружиће</b> испред израза чији је збир 5. <input checked="" type="radio"/> 2 + 3 <input type="radio"/> 1 + 2 <input checked="" type="radio"/> 4 + 1 <input type="radio"/> 2 + 4 <input type="radio"/> 3 + 5

- Ако завршиш раније, предај тест и тихо изађи.

Желимо ти много успеха на испиту!

ЗАВРШНИ ИСПИТ НА КРАЈУ ОСНОВНОГ ОБРАЗОВАЊА И ВАСПИТАЊА  
ТЕСТ  
ГЕОГРАФИЈА

1. Која је међународна ознака за исток?  
Обој кружић испред тачног одговора.
- N                       S                       E                       W
2. Који облици рељефа су на картама приказани различитим нијансама зелене боје?  
Обој кружић испред тачног одговора.
- планине                       висоравни                       низије                       пустиње
3. Која планета се налази на највећој удаљености од Сунца?  
Обој кружић испред тачног одговора.
- Сатурн                       Нептун                       Јупитер                       Уран
4. Како се назива процес кретања Земље око Сунца?  
Обој кружић испред тачног одговора.
- ротација                       акумулација                       револуција                       ерозија
5. Које су највеће водене површине на Земљи?  
Обој кружић испред тачног одговора.
- океани                       мора                       реке                       језера
6. Како се назива просечан број становника по једном километру квадратном територије?  
Обој кружић испред тачног одговора.
- густина насељености                       природни прираштај  
 наталитет                       морталитет
7. Који континент има највећи удео младог становништва?  
Обој кружић испред тачног одговора.
- Европа                       Африка                       Северна Америка                       Аустралија
8. Која делатност припада терцијарном сектору привреде?  
Обој кружић испред тачног одговора.
- наука                       шумарство                       угоститељство                       грађевинарство

9. На ком континенту се налази најмногољуднија држава света?

Обој кружић испред тачног одговора.

- Северноамеричком     Европском     Афричком     Азијском

10. На којој хемисфери се читавом својом површином налази Европа?

Обој кружић испред тачног одговора.

- северној     јужној     источној     западној

11. У ком месецу се на северној Земљиној хемисфери јавља краткодневица?

Обој кружић испред тачног одговора.

- јануару     јуну     септембру     децембру

12. Обој кружић у одговарајућем пољу тако што ћеш повезати типове језера са начином постанка њиховог басена.

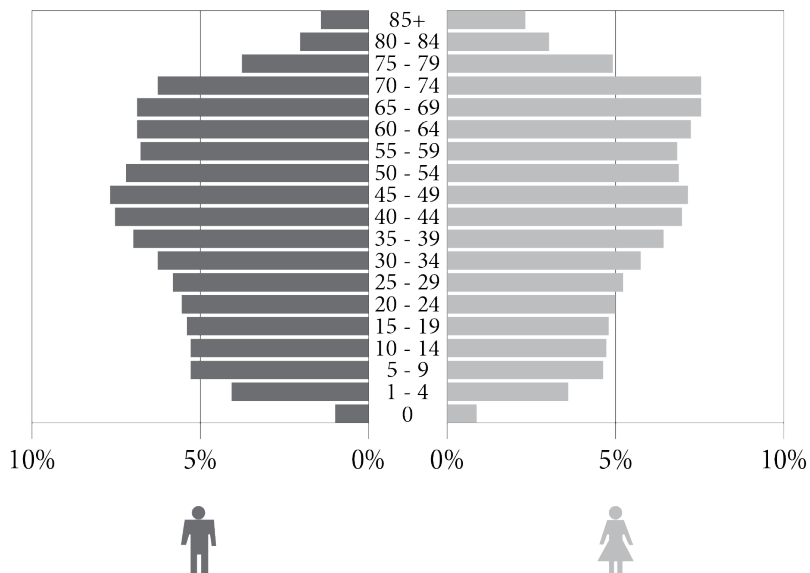
	тектонска	крашка	еолска
Настају када вода испуни удубљења у кречњачком простору.	<input type="radio"/>	<input type="radio"/>	<input type="radio"/>
Настају када вода испуни делове копна спуштене дуж раседа.	<input type="radio"/>	<input type="radio"/>	<input type="radio"/>
Налазе се у удубљењима насталим радом ветра.	<input type="radio"/>	<input type="radio"/>	<input type="radio"/>

13. Која од наведених држава није чланица Европске уније?

Обој кружић испред тачног одговора.

- Бугарска  
 Белгија  
 Швајцарска  
 Шпанија

14. Које су одлике полно-старосне пирамиде Србије која је приказана на слици?



Обој кружић испред тачног одговора.

- веће учешће старог становништва у односу на младо
- највећи удео становништва старости 30–34 година
- највећи удео младог становништва
- мање учешће жена у односу на мушкарце старости 80–84 године

15. Која река је усекла Овчарско-кабларску клисуру?

Обој кружић испред тачног одговора.

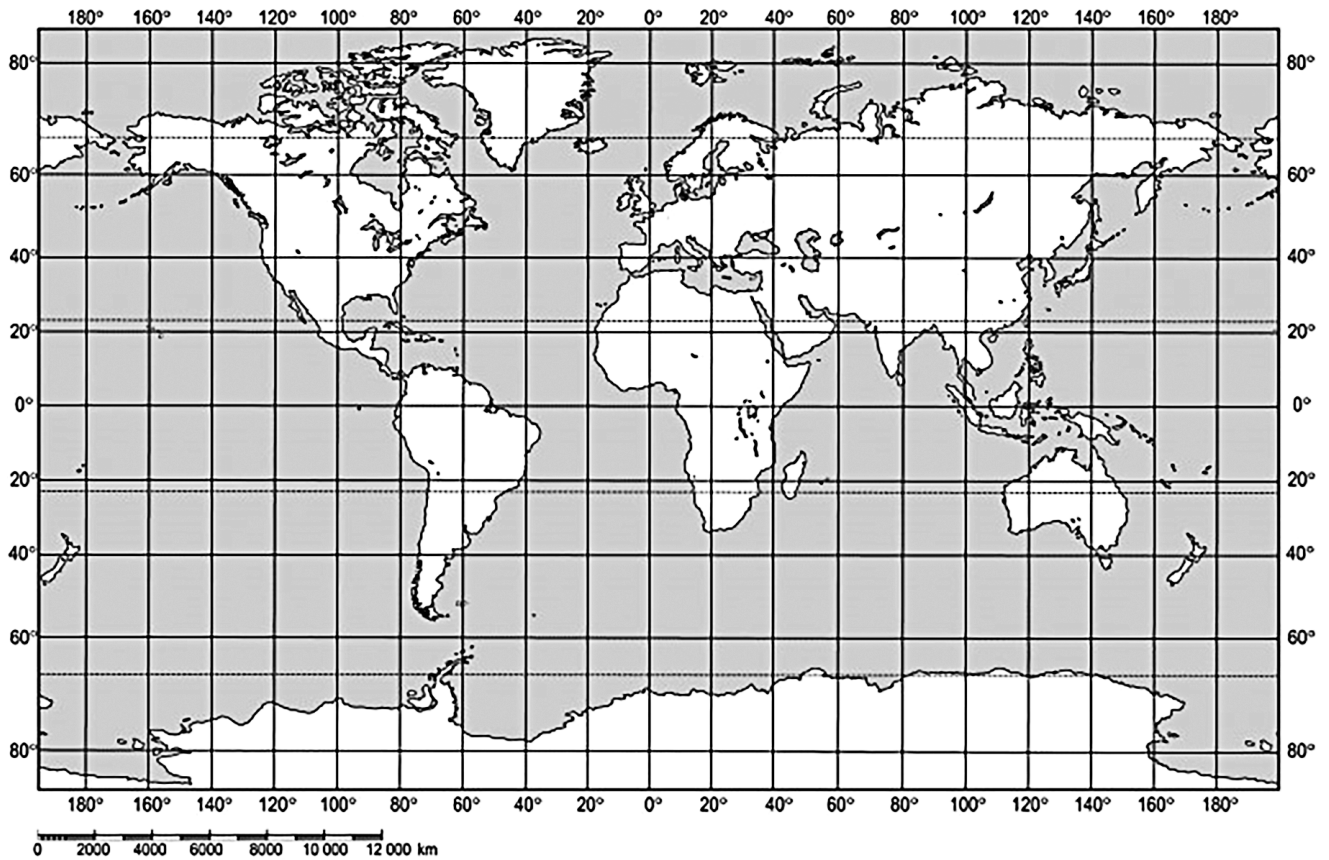
- Велика Морава
- Јужна Морава
- Западна Морава
- Биначка Морава

16. Који део Азије има најразуђенију обалу?

Обој кружић испред тачног одговора.

- Југозападна Азија
- Централна Азија
- Јужна Азија
- Југоисточна Азија

17. У ком океану се налази тачка са координатама 30° СГШ и 30° ЗГД?



Обој кружић испред тачног одговора.

- Северном леденом     Атлантском     Индијском     Тихом

18. У посети си манифестацији „Дани Јована Цвијића” у Лозници. До које најближе бање можеш да направиш излет?  
Обој кружић испред тачног одговора.

- бање Врдник     бање Ковиљаче     Сокобање     Врњачке бање

19. Које државе се једним делом налазе у Панонској низији?  
Обој **кружиће** испред тачних одговора.

- Грчка     Бугарска     Хрватска     Албанија     Словенија

20. Најдужа је река Англоамерике. Спаја се са Мисуријем код града Сент Луиса. Тече меридијанским правцем кроз Средишњу низију. При ушћу у Мексички залив формира велику делту.  
Која је ово река?  
Обој кружић испред тачног одговора.

- Мисисипи     Макензи     Меконг     Мари

# ПРАЗНА СТРАНА



Република Србија  
МИНИСТАРСТВО ПРОСВЕТЕ  
ЗАВОД ЗА ВРЕДНОВАЊЕ КВАЛИТЕТА  
ОБРАЗОВАЊА И ВАСПИТАЊА

ПРИМЕРАК ЗА ШКОЛУ

ЗАЛЕПИТИ ИДЕНТИФИКАЦИОНУ  
НАЛЕПНИЦУ

ЗАВРШНИ ИСПИТ НА КРАЈУ ОСНОВНОГ ОБРАЗОВАЊА И ВАСПИТАЊА

# ТЕСТ ГЕОГРАФИЈА

## ИДЕНТИФИКАЦИОНИ ОБРАЗАЦ

ИМЕ, ИМЕ ЈЕДНОГ РОДИТЕЉА/ДРУГОГ ЗАКОНСКОГ ЗАСТУПНИКА, ПРЕЗИМЕ УЧЕНИКА

ИДЕНТИФИКАЦИОНИ БРОЈ УЧЕНИКА

--	--	--	--	--	--	--	--	--	--

ОСНОВНА ШКОЛА \_\_\_\_\_

МЕСТО \_\_\_\_\_

ОПШТИНА \_\_\_\_\_

ПОТПИС ДЕЖУРНОГ НАСТАВНИКА